



الفصل الدراسي
الأول

نموذج 1

امتحان نهائي

الصف
السادس

المادة
الدراسات
الاجتماعية



السؤال الأول

اختر الإجابة الصحيحة من الخيارات الآتية:

1- ما هي الرموز النقطية في الخريطة؟

- (أ) رموز تمثل الظواهر الجغرافية التي تشغل مساحات واسعة
(ب) رموز تستخدم لتمثيل الظواهر الجغرافية التي تدل على معالم وأماكن محددة
(ج) رموز توضح الاختلاف في نوع الظاهرة الجغرافية دون الاهتمام بالحجم
(د) رموز تستخدم لتمثيل الظواهر التي تظهر بخاصية الحركة والاستمرار

2- ما الفرق بين الرموز النوعية والرموز الكمية؟

- (أ) الرموز النوعية توضح الاختلاف في نوع الظاهرة، بينما الكمية توضح حجم الظاهرة
(ب) الرموز النوعية تستخدم للألوان، بينما الكمية تستخدم للأشكال
(ج) الرموز النوعية تمثل الظواهر البشرية، بينما الكمية تمثل الظواهر الطبيعية
(د) لا يوجد فرق بينهما


3- ما نوع الرمز المستخدم لتمثيل "الحدود الدولية"؟

- (أ) رمز نقطي (ب) رمز مساحي (ج) رمز لوني (د) رمز خطي

4- أي من الخيارات التالية يمثل مثالاً على الرموز النوعية؟


- (أ) مسطح مائي (ب) توزيع المدارس (ج) طريق معبد (د) كثافة سكانية عالية

5- يمثل الشكل التالي:



- (أ) رموز نقطية كمية (ب) رموز خطية كمية (ج) رموز نقطية نوعية (د) رموز خطية نوعية

6- يمثل الشكل التالي:



- (أ) رموز خطية كمية (ب) رموز مساحة كمية (ج) رموز خطية نوعية (د) رموز مساحة نوعية

7- كيف تكتب الأسماء على الرموز النقطية؟

- (أ) أعلى الرمز أو يمينه مباشرة
(ب) في منتصف الرمز
(ج) خارج الخريطة في المفتاح
(د) أسفل الرمز مباشرة





الفصل الدراسي
الأول

نموذج 1

امتحان نهائي

الصف
السادس

المادة
الدراسات
الاجتماعية



8- لماذا يجب أن تشير الأسماء الجغرافية إلى رمز واحد فقط؟

(ب) لأن القوانين الدولية تفرض ذلك

(أ) لأن ذلك يقلل من مساحة الخريطة

(د) لأن ذلك يجعل الخريطة أكثر جمالاً

(ج) لتجنب الالتباس والخلط بين الظواهر المختلفة

9- ما الغرض الرئيسي من توحيد الأسماء الجغرافية؟

(أ) جعل الخرائط أكثر جاذبية

(ج) تقليل تكاليف طباعة الخرائط

(ب) ضمان الدقة والاتساق في تسمية المواقع الجغرافية

(د) تقليل عدد الأسماء على الخريطة

10- أي من الخلفاء الراشدين حكم لمدة أطول؟

(د) علي بن أبي طالب

(ج) عثمان بن عفان

(ب) عمر بن الخطاب

(أ) أبو بكر الصديق

11- ما الذي قام به أبو بكر الصديق بعد وفاة الرسول ﷺ مباشرة؟

(د) فتح فارس

(ج) جمع السنة النبوية

(ب) محاربة المرتدين

(أ) بناء المدارس

12- أي من هذه الإنجازات تم في عهد عثمان بن عفان؟

(د) فتح القدس

(ج) إنشاء الدواوين

(أ) جمع القرآن في مصحف واحد (ب) بناء الأسطول البحري

13- الخليفة الذي تم اختياره بطريقة مشابهة لاختيار أعضاء مجلس الشورى في سلطنة عمان (من خلال ترشيح من

مجموعة ثم اختيار) هو:

(د) علي بن أبي طالب

(ج) عمر بن الخطاب

(ب) أبو بكر الصديق

(أ) عثمان بن عفان

14- كم امتدت المدة الزمنية التي حكم فيها الخلفاء الراشدون؟

(د) 40 عاماً

(ج) 39 عاماً

(ب) 29 عاماً

(أ) 19 عاماً

15- من الخليفة الذي تم اختياره بعد وفاة أبو بكر الصديق؟

(د) عمر بن الخطاب

(ج) علي بن أبي طالب

(ب) أبو بكر الصديق

(أ) عثمان بن عفان

16- ما هو أول موقف لعمر بن الخطاب بعد وفاة الرسول ﷺ؟

(د) التحالف مع الفرس

(ج) إعلان الاستقلال

(أ) إرسال وفد إلى المدينة المنورة (ب) التوقف عن دفع الزكاة





الفصل الدراسي
الأول

نموذج 1

امتحان نهائي

الصف
السادس

المادة
الدراسات
الاجتماعية



17- من كان على رأس الوفد العماني الذي ذهب إلى المدينة المنورة؟

(أ) جعفر بن الجُلندي (ب) عمرو بن العاص (ج) عبد بن الجُلندي (د) صخر بن الجُلندي

18- ما كان موقف العمانيين من ظاهرة الردة بعد وفاة الرسول ﷺ؟

(أ) ارتدوا عن الإسلام (ب) ثبتوا على الإسلام (ج) تحالفوا مع المرتدين (د) توقفوا عن الصلاة فقط

19- من الذي كلفه أبو بكر الصديق لمواجهة المرتدين من قبيلة آل جفلة؟

(أ) خالد بن الوليد (ب) معاذ بن جبل (ج) عمرو بن العاص (د) عبد بن الجُلندي

20- ما إحدى مهام عامل الخلافة الراشدة في عمان؟

(أ) تعيين القضاة (ب) جمع الزكاة (ج) بناء المساجد (د) تنظيم الجيش

21- من هو الوالي الذي عينه عمر بن الخطاب على عمان؟

(أ) معاوية بن أبي سفيان (ب) عمرو بن العاص (ج) عثمان بن أبي العاص (د) عبد بن الجُلندي

22- ما أهم ميزة لموقع عُمان الجغرافي؟

(أ) انفتاحها على العالم الخارجي (ب) بعدها عن البحار (ج) صغر مساحتها (د) وجودها في وسط الصحراء

23- ما أهم مضيق مائي تطل عليه عُمان؟

(أ) مضيق جبل طارق (ب) مضيق باب المندب (ج) مضيق هرمز (د) مضيق ملقا

24- ما أهم الموارد الطبيعية في عُمان؟

(أ) البلاستيك (ب) النفط (ج) الأثاث (د) الأجهزة الإلكترونية

25- ما أحد أشكال سطح الأرض في عُمان الذي يستثمر في الزراعة؟

(أ) الصحاري (ب) الجبال (ج) الكثبان الرملية (د) السهول

26- ما أحد مقومات الاقتصاد البشري في عُمان؟

(أ) البنية التحتية (ب) المسطحات المائية (ج) الموارد المعدنية (د) التضاريس الجبلية

27- ما أحد مصادر الطاقة المتجددة في عُمان؟

(أ) الفحم الحجري (ب) الطاقة الشمسية (ج) الغاز الطبيعي (د) النفط





الفصل الدراسي
الأول

نموذج 1

امتحان نهائي

الصف
السادس

المادة
الدراسات
الاجتماعية



28- ما طول السواحل العُمانية؟

(أ) 500 كم (ب) 1,000 كم (ج) 2,165 كم (د) 3,000 كم

29- ما الهدف من مبادرة المدارس الخضراء؟

(أ) توفير الطاقة الكهربائية
(ج) تعليم الزراعة فقط
(ب) بناء مدارس جديدة
(د) الاستثمار الأمثل للموارد الطبيعية

30- ما أحد العوامل التي ساعدت في جذب الاستثمارات الأجنبية؟

(أ) قلّة الكوادر البشرية (ب) الأمن والاستقرار (ج) قلّة الموارد الطبيعية (د) صغر المساحة

31- ما هو الوصف الصحيح لـ "المضيق"؟

(أ) ممر مائي طبيعي يصل بين بحرين أو خليجين أو بحر وخليج
(ج) موقع جغرافي استراتيجي ينفّث على العالم الخارجي
(ب) ممر بري طبيعي يصل بين دولتين
(د) مجموعة من البحار والمحيطات

32- ما هي العوامل التي ساعدت على تطور الاقتصاد العماني؟

(أ) الاستثمار في الموارد البشرية دون الطبيعية
(ج) الاعتماد على المقومات الطبيعية والبشرية المتوفرة واستثمارها
(ب) الاعتماد على المقومات البشرية فقط
(د) الاعتماد على المقومات الطبيعية فقط

33- ما المقصود بالصناعات التحويلية؟

(أ) استيراد المنتجات الجاهزة
(ج) تخزين المواد الغذائية
(ب) تحويل المواد الخام إلى منتجات نهائية
(د) بيع المواد الخام مباشرة

34- ما المقصود بالأمن الغذائي؟

(أ) تصدير جميع المنتجات الغذائية
(ج) توفير الاحتياجات الغذائية محلياً
(ب) استيراد جميع المواد الغذائية
(د) تقليل الإنتاج الزراعي

35- شهد الاقتصاد العماني تطوراً ملحوظاً خلال الأعوام الماضية نتيجة لتبني الحكومة سياسة:

(أ) تقليص الاستثمار في القطاعات غير النفطية
(ج) زيادة الاعتماد على قطاع التكرير فقط
(ب) الاعتماد الكلي على القطاع النفطي
(د) التنويع الاقتصادي





الفصل الدراسي
الأول

نموذج 1

امتحان نهائي

الصف
السادس

المادة
الدراسات
الاجتماعية



36- ما هي المكونات الرئيسية التي يتكون منها القطاع النفطي في سلطنة عمان؟

- (أ) الاكتشاف والإنتاج والتكرير والنقل والمعالجة والتخزين
(ب) الصناعات التحويلية والزراعة
(ج) التكرير والنقل والمعالجة والتخزين فقط
(د) التعدين والخدمات اللوجستية

37- ما الهدف الرئيسي من تنويع الاقتصاد العماني؟

- (أ) تقليل الاعتماد على النفط (ب) زيادة الاستيراد
(ج) تقليل عدد العمالة (د) الاعتماد الكامل على النفط

38- أي من هذه المواد تدخل في الصناعات التحويلية؟

- (أ) النفط الخام (ب) المنتجات الزراعية (ج) المعادن (د) جميع ما سبق

39- تُعد الصناعات التحويلية من القطاعات الواعدة التي تسهم في تنمية الاقتصاد العماني. أي من هذه الأنشطة لا تُعد

مرتبطة بالصناعات التحويلية؟

- (أ) تصنيع المستلزمات الطبية وتجهيزات المستشفيات
(ب) الاستزراع السمكي
(ج) الصناعات الزجاجية والبلاستيكية
(د) الصناعات الدوائية والغذائية

40- كيف تُقاس أهمية القطاعات الاقتصادية في سلطنة عمان، وما الذي يتبين من مقارنة مساهمة القطاعات النفطية

وغير النفطية في الناتج المحلي الإجمالي لعام 2023م؟

- (أ) تُقاس بكمية الصادرات النفطية فقط، وتتبين مساهمة متساوية بين القطاعين
(ب) تُقاس بعدد الشركات العاملة فيها، وتتبين مساهمة أكبر للقطاع غير النفطي
(ج) تُقاس من خلال مساهمتها في الناتج المحلي الإجمالي، وتتبين مساهمة متباينة بين القطاعين
(د) تُقاس بحجم الاستثمارات الأجنبية، وتتبين مساهمة أكبر للقطاع النفطي

41- يرتبط قطاع التعدين في سلطنة عمان بالاستفادة من الثروات المعدنية واستثمارها بما يخدم التنوع الاقتصادي. أي من

الأنشطة التالية هي أنشطة ذات عائد اقتصادي مرتفع في هذا القطاع؟

- (أ) التنقيب عن المعادن، واستخراجها، والإنتاج، والتسويق
(ب) تصنيع المستلزمات الطبية
(ج) زراعة التمور والألبان
(د) التعليم والبحث العلمي

42- ما عدد المحافظات التي يشملها مشروع المليون نخلة؟

- (أ) 4 محافظات (ب) 6 محافظات (ج) 8 محافظات (د) 10 محافظات

43- ما هو الكائن البحري الذي يركز عليه مشروع الاستزراع؟

- (أ) الصفيح (ب) الجمبري (ج) التونة (د) الكافيار





الفصل الدراسي
الأول

نموذج 1

امتحان نهائي

الصف
السادس

المادة
الدراسات
الاجتماعية



44- ما نوع المشاريع التي تحتويها مدينة خزائن الصناعية؟

- (أ) الصناعات الثقيلة فقط
(ب) لا تحتوي على أي مشاريع
(ج) إعادة التدوير فقط
(د) إعادة التدوير والصناعات الخفيفة

45- ما أهمية مصفاة الدقم؟

- (أ) أكبر مشروع تكرير في أفريقيا
(ب) أول مصفاة في الخليج العربي
(ج) أحد أكبر مشاريع التكرير في الشرق الأوسط
(د) أصغر مصفاة في عُمان

46- ما الذي تحتويه مدينة خزائن الصناعية؟

- (أ) سوق للخضار والفواكه
(ب) مصانع للسيارات
(ج) محطة نووية
(د) مطار دولي

47- تهدف سلطنة عمان إلى زيادة المشاريع الاقتصادية في القطاع غير النفطي بهدف رئيسي هو:

- (أ) التركيز على تصدير النفط الخام
(ب) زيادة الاعتماد على القطاع النفطي
(ج) إيقاف إنتاج النفط تماماً
(د) التقليل من الاعتماد على القطاع النفطي

48- مشروع الدقم هو مشروع مشترك بين سلطنة عمان ودولة أخرى، ويعد أحد أكبر مشروعات تكرير النفط في الشرق

الأوسط. ما هي الدولة الشريكة في هذا المشروع؟

- (أ) دولة الإمارات العربية المتحدة
(ب) دولة قطر
(ج) دولة الكويت
(د) المملكة العربية السعودية

49- ما هو المشروع الذي يهدف إلى تحقيق الاكتفاء الذاتي من الغذاء، ويعتمد على استخدام التقنيات الحديثة في مجال

الزراعة؟

- (أ) ميناء صحران الصناعي
(ب) محطة مسندم للطاقة
(ج) مشروع المليون نخلة
(د) مشروع الدقم

50- مدينة خزائن الصناعية تم إنشاؤها بأوامر سامية من السلطان قابوس بن سعيد طيب الله ثراه. ما هي إحدى مميزاتها؟

- (أ) تضم ميناء يربط سلطنة عمان بالأسواق العالمية
(ب) مشروع مشترك بين سلطنة عمان ودولة الكويت
(ج) أكبر مشروع استثماري في قطاع الطاقة بمحافظة مسندم
(د) تعتمد على استخدام التقنيات الحديثة في مجال الزراعة





الفصل الدراسي
الأول

نموذج 1

امتحان نهائي

الصف
السادس

المادة
الدراسات
الاجتماعية



اختر الإجابة الصحيحة من الخيارات الآتية:

السؤال الأول

1- ما هي الرموز النقطية في الخريطة؟

(أ) رموز تمثل الظواهر الجغرافية التي تشغل مساحات واسعة

(ب) رموز تستخدم لتمثيل الظواهر الجغرافية التي تدل على معالم وأماكن محددة

(ج) رموز توضح الاختلاف في نوع الظاهرة الجغرافية دون الاهتمام بالحجم

(د) رموز تستخدم لتمثيل الظواهر التي تظهر بخاصية الحركة والاستمرار

2- ما الفرق بين الرموز النوعية والرموز الكمية؟

(أ) الرموز النوعية توضح الاختلاف في نوع الظاهرة، بينما الكمية توضح حجم الظاهرة

(ب) الرموز النوعية تستخدم للألوان، بينما الكمية تستخدم للأشكال

(ج) الرموز النوعية تمثل الظواهر البشرية، بينما الكمية تمثل الظواهر الطبيعية

(د) لا يوجد فرق بينهما

3- ما نوع الرمز المستخدم لتمثيل "الحدود الدولية"؟

(د) رمز خطي

(ج) رمز لوني

(ب) رمز مساحي

(أ) رمز نقطي

4- أي من الخيارات التالية يمثل مثالاً على الرموز النوعية؟


(د) كثافة سكانية عالية

(ج) طريق معبد

(ب) توزيع المدارس

(أ) مسطح مائي

5- يمثل الشكل التالي:




(د) رموز خطية نوعية

(ج) رموز نقطية نوعية

(ب) رموز خطية كمية

(أ) رموز نقطية كمية

6- يمثل الشكل التالي:



(د) رموز مساحة نوعية

(ج) رموز خطية نوعية

(ب) رموز مساحة كمية

(أ) رموز خطية كمية

7- كيف تكتب الأسماء على الرموز النقطية؟

(ب) في منتصف الرمز

(د) أسفل الرمز مباشرة

(أ) أعلى الرمز أو يمينه مباشرة

(ج) خارج الخريطة في المفتاح





الفصل الدراسي
الأول

نموذج 1

امتحان نهائي

الصف
السادس

المادة
الدراسات
الاجتماعية



8- لماذا يجب أن تشير الأسماء الجغرافية إلى رمز واحد فقط؟

(ب) لأن القوانين الدولية تفرض ذلك

(أ) لأن ذلك يقلل من مساحة الخريطة

(د) لأن ذلك يجعل الخريطة أكثر جمالاً

(ج) لتجنب الالتباس والخلط بين الظواهر المختلفة

9- ما الغرض الرئيسي من توحيد الأسماء الجغرافية؟

(أ) جعل الخرائط أكثر جاذبية

(ج) تقليل تكاليف طباعة الخرائط

10- أي من الخلفاء الراشدين حكم لمدة أطول؟

(د) علي بن أبي طالب

(ج) عثمان بن عفان

(ب) عمر بن الخطاب

(أ) أبو بكر الصديق

11- ما الذي قام به أبو بكر الصديق بعد وفاة الرسول ﷺ مباشرة؟

(د) فتح فارس

(ج) جمع السنة النبوية

(ب) محاربة المرتدين

(أ) بناء المدارس

12- أي من هذه الإنجازات تم في عهد عثمان بن عفان؟

(د) فتح القدس

(ج) إنشاء الدواوين

(ب) بناء الأسطول البحري

(أ) جمع القرآن في مصحف واحد

13- الخليفة الذي تم اختياره بطريقة مشابهة لاختيار أعضاء مجلس الشورى في سلطنة عمان (من خلال ترشيح من

مجموعة ثم اختيار) هو:

(د) علي بن أبي طالب

(ج) عمر بن الخطاب

(ب) أبو بكر الصديق

(أ) عثمان بن عفان

14- كم امتدت المدة الزمنية التي حكم فيها الخلفاء الراشدون؟

(د) 40 عامًا

(ج) 39 عامًا

(ب) 29 عامًا

(أ) 19 عامًا

15- من الخليفة الذي تم اختياره بعد وفاة أبو بكر الصديق؟

(د) عمر بن الخطاب

(ج) علي بن أبي طالب

(ب) أبو بكر الصديق

(أ) عثمان بن عفان

16- ما هو أول موقف لعمر بن الخطاب بعد وفاة الرسول ﷺ؟

(د) التحالف مع الفرس

(ج) إعلان الاستقلال

(ب) التوقف عن دفع الزكاة

(أ) إرسال وفد إلى المدينة المنورة





الفصل الدراسي
الأول

نموذج 1

امتحان نهائي

الصف
السادس

المادة
الدراسات
الاجتماعية



17- من كان على رأس الوفد العماني الذي ذهب إلى المدينة المنورة؟

(أ) جعفر بن الجُندى (ب) عمرو بن العاص (ج) **عبد بن الجُندى** (د) صخر بن الجُندى

18- ما كان موقف العمانيين من ظاهرة الردة بعد وفاة الرسول ﷺ؟

(أ) ارتدوا عن الإسلام (ب) **ثبتوا على الإسلام** (ج) تحالفوا مع المرتدين (د) توقفوا عن الصلاة فقط

19- من الذي كلفه أبو بكر الصديق لمواجهة المرتدين من قبيلة آل جفلة؟

(أ) خالد بن الوليد (ب) معاذ بن جبل (ج) عمرو بن العاص (د) **عبد بن الجُندى**

20- ما إحدى مهام عامل الخلافة الراشدة في عمان؟

(أ) تعيين القضاة (ب) **جمع الزكاة** (ج) بناء المساجد (د) تنظيم الجيش

21- من هو الوالي الذي عينه عمر بن الخطاب على عمان؟

(أ) معاوية بن أبي سفيان (ب) عمرو بن العاص (ج) **عثمان بن أبي العاص** (د) عبد بن الجُندى

22- ما أهم ميزة لموقع عُمان الجغرافي؟

(أ) **انفتاحها على العالم الخارجي** (ب) بعدها عن البحار (ج) صغر مساحتها (د) وجودها في وسط الصحراء

23- ما أهم مضيق مائي تطل عليه عُمان؟

(أ) مضيق جبل طارق (ب) مضيق باب المندب (ج) **مضيق هرمز** (د) مضيق ملقا

24- ما أهم الموارد الطبيعية في عُمان؟

(أ) البلاستيك (ب) **النفط** (ج) الأثاث (د) الأجهزة الإلكترونية

25- ما أحد أشكال سطح الأرض في عُمان الذي يستثمر في الزراعة؟

(أ) الصحاري (ب) الجبال (ج) الكثبان الرملية (د) **السهول**

26- ما أحد مقومات الاقتصاد البشري في عُمان؟

(أ) **البنية التحتية** (ب) المسطحات المائية (ج) الموارد المعدنية (د) التضاريس الجبلية

27- ما أحد مصادر الطاقة المتجددة في عُمان؟

(أ) الفحم الحجري (ب) **الطاقة الشمسية** (ج) الغاز الطبيعي (د) النفط





الفصل الدراسي
الأول

نموذج 1

امتحان نهائي

الصف
السادس

المادة
الدراسات
الاجتماعية



28- ما طول السواحل العُمانية؟

(أ) 500 كم (ب) 1,000 كم (ج) 2,165 كم (د) 3,000 كم

29- ما الهدف من مبادرة المدارس الخضراء؟

(أ) توفير الطاقة الكهربائية
(ج) تعليم الزراعة فقط
(ب) بناء مدارس جديدة
(د) الاستثمار الأمثل للموارد الطبيعية

30- ما أحد العوامل التي ساعدت في جذب الاستثمارات الأجنبية؟

(أ) قلّة الكوادر البشرية (ب) الأمن والاستقرار
(ج) قلّة الموارد الطبيعية (د) صغر المساحة
31- ما هو الوصف الصحيح لـ "المضيق"؟

(أ) ممر مائي طبيعي يصل بين بحرين أو خليجين أو بحر وخليج
(ج) موقع جغرافي استراتيجي ينفّث على العالم الخارجي
(ب) ممر بري طبيعي يصل بين دولتين
(د) مجموعة من البحار والمحيطات

32- ما هي العوامل التي ساعدت على تطور الاقتصاد العماني؟

(أ) الاستثمار في الموارد البشرية دون الطبيعية
(ج) الاعتماد على المقومات الطبيعية والبشرية المتوفرة واستثمارها
(ب) الاعتماد على المقومات البشرية فقط
(د) الاعتماد على المقومات الطبيعية فقط

33- ما المقصود بالصناعات التحويلية؟

(أ) استيراد المنتجات الجاهزة
(ج) تخزين المواد الغذائية
(ب) تحويل المواد الخام إلى منتجات نهائية
(د) بيع المواد الخام مباشرة

34- ما المقصود بالأمن الغذائي؟

(أ) تصدير جميع المنتجات الغذائية
(ج) توفير الاحتياجات الغذائية محلياً
(ب) استيراد جميع المواد الغذائية
(د) تقليل الإنتاج الزراعي

35- شهد الاقتصاد العماني تطوراً ملحوظاً خلال الأعوام الماضية نتيجة لتبني الحكومة سياسة:

(أ) تقليص الاستثمار في القطاعات غير النفطية
(ج) زيادة الاعتماد على قطاع التكرير فقط
(ب) الاعتماد الكلي على القطاع النفطي
(د) التنويع الاقتصادي





الفصل الدراسي
الأول

نموذج 1

امتحان نهائي

الصف
السادس

المادة
الدراسات
الاجتماعية



36- ما هي المكونات الرئيسية التي يتكون منها القطاع النفطي في سلطنة عمان؟

(أ) الاكتشاف والإنتاج والتكرير والنقل والمعالجة والتخزين

(ب) الصناعات التحويلية والزراعة

(د) التعدين والخدمات اللوجستية

(ج) التكرير والنقل والمعالجة والتخزين فقط

37- ما الهدف الرئيسي من تنوع الاقتصاد العماني؟

(أ) تقليل الاعتماد على النفط (ب) زيادة الاستيراد (ج) تقليل عدد العمالة (د) الاعتماد الكامل على النفط

38- أي من هذه المواد تدخل في الصناعات التحويلية؟

(أ) النفط الخام (ب) المنتجات الزراعية (ج) المعادن (د) جميع ما سبق

39- تُعد الصناعات التحويلية من القطاعات الواعدة التي تسهم في تنمية الاقتصاد العماني. أي من هذه الأنشطة لا تُعد

مرتبطة بالصناعات التحويلية؟

(أ) تصنيع المستلزمات الطبية وتجهيزات المستشفيات

(ب) الاستزراع السمكي

(د) الصناعات الدوائية والغذائية

(ج) الصناعات الزجاجية والبلاستيكية

40- كيف تُقاس أهمية القطاعات الاقتصادية في سلطنة عمان، وما الذي يتبين من مقارنة مساهمة القطاعات النفطية

وغير النفطية في الناتج المحلي الإجمالي لعام 2023م؟

(أ) تُقاس بكمية الصادرات النفطية فقط، وتتبين مساهمة متساوية بين القطاعين

(ب) تُقاس بعدد الشركات العاملة فيها، وتتبين مساهمة أكبر للقطاع غير النفطي

(ج) تُقاس من خلال مساهمتها في الناتج المحلي الإجمالي، وتتبين مساهمة متباينة بين القطاعين

(د) تُقاس بحجم الاستثمارات الأجنبية، وتتبين مساهمة أكبر للقطاع النفطي

41- يرتبط قطاع التعدين في سلطنة عمان بالاستفادة من الثروات المعدنية واستثمارها بما يخدم التنوع الاقتصادي. أي من

الأنشطة التالية هي أنشطة ذات عائد اقتصادي مرتفع في هذا القطاع؟

(أ) التنقيب عن المعادن، واستخراجها، والإنتاج، والتسويق

(ب) تصنيع المستلزمات الطبية

(د) التعليم والبحث العلمي

(ج) زراعة التمور والألبان

42- ما عدد المحافظات التي يشملها مشروع المليون نخلة؟

(أ) 4 محافظات (ب) 6 محافظات (ج) 8 محافظات (د) 10 محافظات

43- ما هو الكائن البحري الذي يركز عليه مشروع الاستزراع؟

(أ) الصفيح (ب) الجمبري (ج) التونة (د) الكافيار





الفصل الدراسي
الأول

نموذج 1

امتحان نهائي

الصف
السادس

المادة
الدراسات
الاجتماعية



44- ما نوع المشاريع التي تحتويها مدينة خزائن الصناعية؟

(أ) الصناعات الثقيلة فقط

(ب) لا تحتوي على أي مشاريع

(ج) إعادة التدوير فقط

(د) إعادة التدوير والصناعات الخفيفة

45- ما أهمية مصفاة الدقم؟

(أ) أكبر مشروع تكرير في أفريقيا

(ب) أول مصفاة في الخليج العربي

(ج) أحد أكبر مشاريع التكرير في الشرق الأوسط

(د) أصغر مصفاة في عُمان

46- ما الذي تحتويه مدينة خزائن الصناعية؟

(أ) سوق للخضار والفواكه

(ب) مصانع للسيارات

(ج) محطة نووية

(د) مطار دولي

47- تهدف سلطنة عمان إلى زيادة المشاريع الاقتصادية في القطاع غير النفطي بهدف رئيسي هو:

(أ) التركيز على تصدير النفط الخام

(ب) زيادة الاعتماد على القطاع النفطي

(ج) إيقاف إنتاج النفط تماماً

(د) التقليل من الاعتماد على القطاع النفطي

48- مشروع الدقم هو مشروع مشترك بين سلطنة عمان ودولة أخرى، ويعد أحد أكبر مشروعات تكرير النفط في الشرق

الأوسط. ما هي الدولة الشريكة في هذا المشروع؟

(أ) دولة الإمارات العربية المتحدة

(ب) دولة قطر

(ج) دولة الكويت

(د) المملكة العربية السعودية

49- ما هو المشروع الذي يهدف إلى تحقيق الاكتفاء الذاتي من الغذاء، ويعتمد على استخدام التقنيات الحديثة في مجال

الزراعة؟

(أ) ميناء صحران الصناعي

(ب) محطة مسندم للطاقة

(ج) مشروع المليون نخلة

(د) مشروع الدقم

50- مدينة خزائن الصناعية تم إنشاؤها بأوامر سامية من السلطان قابوس بن سعيد طيب الله ثراه. ما هي إحدى مميزاتها؟

(أ) تضم ميناء يربط سلطنة عمان بالأسواق العالمية

(ب) مشروع مشترك بين سلطنة عمان ودولة الكويت

(ج) أكبر مشروع استثماري في قطاع الطاقة بمحافظة مسندم

(د) تعتمد على استخدام التقنيات الحديثة في مجال الزراعة

