



الفصل الدراسي
الأول

نموذج 2

امتحان نهائي

الصف
الخامس

المادة
الدراسات
الاجتماعية



السؤال الاول

ضع إشارة (✓) أمام العبارة الصحيحة وإشارة (x) أمام العبارة الخاطئة:

- 1- (...) الانتماء للوطن يعني فقط حبه دون العمل من أجله.
- 2- (...) جلالة السلطان هو رمز للوطن ويجب طاعته والولاء له.
- 3- (...) الأعمال التطوعية لا تساهم في خدمة الوطن.
- 4- (...) الاجتهاد في طلب العلم ليس من مظاهر الانتماء للوطن.
- 5- (...) خط جرينتش هو خط طول رئيسي درجته 90°.
- 6- (...) كل 15° من خطوط الطول تعادل ساعة زمنية واحدة.
- 7- (...) دوائر العرض تساعد في تحديد التوقيت الزمني.
- 8- (...) مدار السرطان يقع شمال خط الاستواء.
- 9- (...) التهريب الضريبي من مظاهر حب الوطن.
- 10- (...) الاهتمام بالتراث الوطني يعزز الانتماء.
- 11- (...) انتقاد الأخطاء في المشاريع الوطنية يضعف الانتماء.
- 12- (...) تعلم اللغات الأجنبية يقلل من الانتماء الوطني.
- 13- (...) المشاركة في الانتخابات واجب وطني.
- 14- (...) الدفاع عن الوطن يقتصر على الجيش فقط.
- 15- (...) الأعمال التطوعية لا تساهم في بناء الوطن.
- 16- (...) الاجتهاد في الدراسة من مظاهر حب الوطن.
- 17- (...) عدد خطوط الطول حول الأرض هو 180 خطأً.
- 18- (...) سلطنة عمان تقع بالكامل شمال خط الاستواء.
- 19- (...) الإحداثيات الجغرافية لمدينة ما تُكتب بترتيب خط الطول أولاً ثم دائرة العرض.
- 20- (...) الملك روجر الثاني طلب من الإدريسي تأليف كتاب "نزهة المشتاق في اختراق الآفاق".
- 21- (...) الفرس هم من طوروا علم الخرائط في العصر الإسلامي.
- 22- (...) امتد حكم العُمانيين إلى حضرموت والبحرين في بعض الفترات.
- 23- (...) اقتصرَت تجارة العُمانيين على البر فقط دون البحر.
- 24- (...) عبد العُمانيون الأوثان فقط دون أي ديانات أخرى.





الفصل الدراسي
الأول

نموذج 2

امتحان نهائي

الصف
الخامس

المادة
الدراسات
الاجتماعية



- 25- (...) ازدهرت الحياة الأدبية في عُمان قبل الإسلام.
- 26- (...) كانت مكة مركزاً دينياً مهماً قبل الإسلام بسبب وجود الكعبة.
- 27- (...) قامت في عمان قبل الإسلام دول وممالك مثل مملكة سبأ.
- 28- (...) سكنت عُمان قبائل عربية فقط دون غيرها.
- 29- (...) معركة سلوت كانت بين العُمانيين والروم.
- 30- (...) اشتهر العُمانيون بالتجارة البحرية قبل الإسلام.

السؤال الثاني

املاً الفراغات بالكلمة المناسبة فيما يأتي:

- 1- الانتماء للوطن يعني
- 2- من مظاهر الولاء للوطن
- 3- النشيد الوطني يعزز لدى المواطنين.
- 4- من إضاعات جلالة السلطان: " حياتنا من أجل عُمان".
- 2- عدد دوائر العرض حول الأرض هو دائرة.
- 6- خطوط الطول هي دوائر وهمية تمتد من إلى
- 7- خطوط العرض هي دوائر وهمية مكتملة تمتد من جهة إلى جهة من الكرة الأرضية.
- 8- استخدموا الطين لرسم خرائطهم بسبب توفرها على جانبي نهري دجلة والفرات.
- 9- رسموا خرائط لمواقع المناجم والطرق المؤدية إليها.
- 10- رسم خريطة العالم على كرة فضية بناءً على طلب الملك
- 11- من أشهر الأنشطة الاقتصادية في شبه الجزيرة العربية قبل الإسلام:
- 12- عبد العرب قبل الإسلام
- 13- انتشرت في اليمن ممالك قديمة مثل مملكة ومملكة
- 14- من الأسواق الأدبية المشهورة في عُمان: و
- 15- تميز العُمانيون بفن التي صورت حياتهم اليومية.
- 16- سكن عُمان قديماً قبائل عربية مثل و
- 17- هاجرت قبيلة إلى عُمان بقيادة مالك بن فهم.





الفصل الدراسي
الأول

نموذج 2

امتحان نهائي

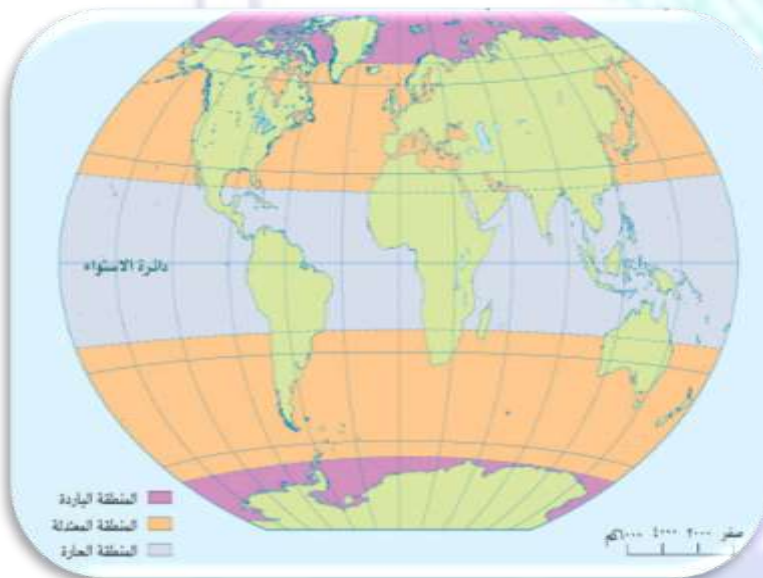
الصف
الخامس

المادة
الدراسات
الاجتماعية



- 18- العرب البائدة هم العرب الذين
- 19- من قبائل العرب الباقية و.....
- 20- تسمية عُمان بهذا الاسم نسبة لـ أو
- 21- المشاركة في تعتبر من أعمال الولاء للوطن.
- 22- الاجتهاد في يساهم في خدمة الوطن.
- 23- المحافظة على **الممتلكات** العامة من المواطن.
- 24- احترام الانظمة والقوانين يعزز
- 25- من مظاهر الولاء للوطن المشاركة في التي تنظمها المؤسسات الحكومية.
- 26- يُحدد الموقع الفلكي لأي مكان باستخدام و.....
- 27- تُكتب الإحداثيات الجغرافية عادةً بثلاث وحدات هي: ، ،

السؤال الثالث: تأمل الخريطة التالية ثم استخرج أمثلة لبعض الدول التي تقع ضمن المناطق الحرارية:



المنطقة الحرارية	أمثلة من الدول
المنطقة الباردة	
المنطقة الحارة	
المنطقة المعتدلة	





الفصل الدراسي
الأول

نموذج 2

امتحان نهائي

الصف
الخامس

المادة
الدراسات
الاجتماعية



إذا كانت الساعة 6 صباحاً في مدينة جرينتش، فكم الساعة في مدينة مسقط الواقعة على خط 60 شرق جرينتش؟

السؤال الرابع

- المعطيات.....:

- خطوات الحل:

أجب عن الأسئلة التالية :

السؤال الخامس

1- ما الفرق بين خطوط الطول ودوائر العرض من حيث الخصائص؟

الإجابة:

2- كيف تحسب الفرق الزمني بين مدينتين باستخدام خطوط الطول؟

الإجابة:

3- ما أهمية خطوط الطول ودوائر العرض في حياتنا اليومية؟

الإجابة:

4- ما دور الأسواق في الحياة الاقتصادية والثقافية قبل الإسلام؟

الإجابة:

5- ما دور الأسرة في تعزيز الانتماء والولاء للوطن؟

الإجابة:

6- أذكر استخدامين للخرائط عند البابليين والمصريين؟

الإجابة:





الفصل الدراسي
الأول

نموذج 2

امتحان نهائي

الصف
الخامس

المادة
الدراسات
الاجتماعية



7- ما أهمية المشاركة في الأعمال التطوعية للوطن؟

الإجابة:

8- صف الحياة السياسية في عُمان قبل الإسلام:

الإجابة:

استخدم الخريطة لاستخراج المعطيات التالية:

السؤال السادس



1- اسم دولة عربية يمر عليها خط جرينتش.

الإجابة:

2- اسم دولة عربية تمر عليها دائرة الاستواء.

الإجابة:

3- دول يمر عليها خط طول 30° شرقاً.

الإجابة:

4- دول تمر عليها دائرة عرض 20° شمالاً.

الإجابة:

5- لماذا يتشابه التوقيت في الدولة 1 والدولة 2؟

الإجابة:





الفصل الدراسي
الأول

نموذج 2

امتحان نهائي

الصف
الخامس

المادة
الدراسات
الاجتماعية



السؤال السابع

تأمل الصورة التي أمامك، ثم أجب عن الأسئلة التالية:



1- ما اسم الفن الذي توضحه الصورة؟

الإجابة:

2- ما أهميته؟

الإجابة:

رتب الأحداث التالية ترتيباً صحيحاً:

السؤال الثامن

- 1- طلب الفرس الصلح من مالك بن فهم.
- 2- انتصار الأزدي وطرد الفرس من عُمان بشكل كامل.
- 3- إرسال ملك الفرس مساعدة للفرس في صُحار.
- 4- انتصار الغمانيين على الفرس في معركة سلوت.

الإجابة:

أمامك مجموعة من المواقف اقترح التصرف الصحيح لكل موقف:

السؤال التاسع

الموقف	التصرف الصحيح المقترح
إذا رأيت مجموعة تلوث حديقة عامة	
إذا رأيت علم الوطن	
إذا زرت متحفاً وطنياً	





الفصل الدراسي
الأول

نموذج 2

امتحان نهائي

الصف
الخامس

المادة
الدراسات
الاجتماعية



السؤال الاول

ضع إشارة (✓) أمام العبارة الصحيحة وإشارة (✗) أمام العبارة الخاطئة:

- 1- (✗) الانتماء للوطن يعني فقط حبه دون العمل من أجله.
- 2- (✓) جلالة السلطان هو رمز للوطن ويجب طاعته والولاء له.
- 3- (✗) الأعمال التطوعية لا تساهم في خدمة الوطن.
- 4- (✗) الاجتهاد في طلب العلم ليس من مظاهر الانتماء للوطن.
- 5- (✗) خط جرينتش هو خط طول رئيسي درجته 90°.
- 6- (✓) كل 15° من خطوط الطول تعادل ساعة زمنية واحدة.
- 7- (✗) دوائر العرض تساعد في تحديد التوقيت الزمني.
- 8- (✓) مدار السرطان يقع شمال خط الاستواء.
- 9- (✗) التهرب الضريبي من مظاهر حب الوطن.
- 10- (✓) الاهتمام بالتراث الوطني يعزز الانتماء.
- 11- (✗) انتقاد الأخطاء في المشاريع الوطنية يضعف الانتماء.
- 12- (✗) تعلم اللغات الأجنبية يقلل من الانتماء الوطني.
- 13- (✓) المشاركة في الانتخابات واجب وطني.
- 14- (✗) الدفاع عن الوطن يقتصر على الجيش فقط.
- 15- (✗) الأعمال التطوعية لا تساهم في بناء الوطن.
- 16- (✓) الاجتهاد في الدراسة من مظاهر حب الوطن.
- 17- (✗) عدد خطوط الطول حول الأرض هو 180 خطأ.
- 18- (✓) سلطنة عمان تقع بالكامل شمال خط الاستواء.
- 19- (✗) الإحداثيات الجغرافية لمدينة ما تُكتب بترتيب خط الطول أولاً ثم دائرة العرض.
- 20- (✓) الملك روجر الثاني طلب من الإدريسي تأليف كتاب "تزهة المشتاق في اختراق الآفاق".
- 21- (✗) الفرس هم من طوروا علم الخرائط في العصر الإسلامي.
- 22- (✓) امتد حكم الغُمانيين إلى حضرموت والبحرين في بعض الفترات.
- 23- (✗) اقتصرت تجارة الغُمانيين على البر فقط دون البحر.
- 24- (✗) عبد الغُمانيون الأوثان فقط دون أي ديانات أخرى.





الفصل الدراسي
الأول

نموذج 2

امتحان نهائي

الصف
الخامس

المادة
الدراسات
الاجتماعية



- 25- (✓) ازدهرت الحياة الأدبية في عُمان قبل الإسلام.
- 26- (✓) كانت مكة مركزاً دينياً مهماً قبل الإسلام بسبب وجود الكعبة.
- 27- (✗) قامت في عمان قبل الإسلام دول وممالك مثل مملكة سبأ.
- 28- (✗) سكنت عُمان قبائل عربية فقط دون غيرها.
- 29- (✗) معركة سلوت كانت بين العُمانيين والروم.
- 30- (✓) اشتهر العُمانيون بالتجارة البحرية قبل الإسلام.

املاً الفراغات بالكلمة المناسبة فيما يأتي:

السؤال الثاني

- 1- الانتماء للوطن يعني **الحب والوفاء** له.
- 2- من مظاهر الولاء للوطن **الدفاع عنه والعمل على رفعته**.
- 3- النشيد الوطني يعزز **الشعور بالانتماء** لدى المواطنين.
- 4- من إضاعات جلالة السلطان: " **نكرس** حياتنا من أجل عُمان".
- 2- عدد دوائر العرض حول الأرض هو **180** دائرة.
- 6- خطوط الطول هي دوائر وهمية تمتد من **القطبين الشمالي إلى القطب الجنوبي**.
- 7- خطوط العرض هي دوائر وهمية مكتملة تمتد من جهة **الشرق إلى جهة الغرب** من الكرة الأرضية.
- 8- **البابليون** استخدموا الطين لرسم خرائطهم بسبب توفرها على جانبي نهري دجلة والفرات.
- 9- **المصريون القدماء** رسموا خرائط لمواقع المناجم والطرق المؤدية إليها.
- 10- **الإدريسي** رسم خريطة العالم على كرة فضية بناءً على طلب الملك روجر الثاني.
- 11- من أشهر الأنشطة الاقتصادية في شبه الجزيرة العربية قبل الإسلام: **التجارة والرعي**.
- 12- عبد العرب قبل الإسلام **الأوثان**.
- 13- انتشرت في اليمن ممالك قديمة مثل مملكة **سبأ** ومملكة **معين**.
- 14- من الأسواق الأدبية المشهورة في عُمان: **سوق دبا وسوق صحار**.
- 15- تميز العُمانيون بفن **الرسومات الصخرية** التي صورت حياتهم اليومية.
- 16- سكن عُمان قديماً قبائل عربية مثل **العماليق وطسم**.
- 17- هاجرت قبيلة **الأزد** إلى عُمان بقيادة مالك بن فهم.





الفصل الدراسي
الأول

نموذج 2

امتحان نهائي

الصف
الخامس

المادة
الدراسات
الاجتماعية



18- العرب البائدة هم العرب الذين لم يبق منهم أحد.

19- من قبائل العرب الباقية القحطانيون والعدنانيون.

20- تسمية عُمان بهذا الاسم نسبة لـ عُمان بن إبراهيم أو وادٍ في اليمن.

21- المشاركة في الأعمال التطوعية تعتبر من أعمال الولاء للوطن.

22- الاجتهاد في طلب العلم يساهم في خدمة الوطن.

23- المحافظة على الممتلكات العامة من واجبات المواطن.

24- احترام الانظمة والقوانين يعزز الانتماء الوطني.

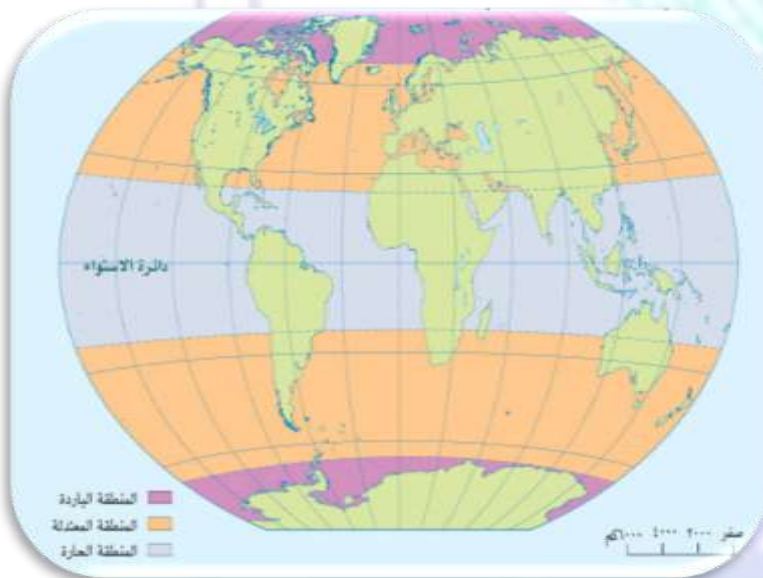
25- من مظاهر الولاء للوطن المشاركة في المبادرات المجتمعية التي تنظمها المؤسسات الحكومية.

26- يُحدد الموقع الفلكي لأي مكان باستخدام خطوط الطول ودوائر العرض.

27- تُكتب الإحداثيات الجغرافية عادةً بثلاث وحدات هي: الدرجات، الدقائق، والثواني.

السؤال الثالث: تأمل الخريطة التالية ثم استخرج أمثلة لبعض الدول التي تقع ضمن المناطق الحرارية:

السؤال الثالث



المنطقة الحرارية	أمثلة من الدول
المنطقة الباردة	روسيا، كندا، فنلندا، السويد
المنطقة الحارة	سلطنة عمان، موريتانيا، الاكوادور، اندونيسيا
المنطقة المعتدلة	جنوب افريقيا، ايطاليا، فرنسا، اسبانيا





الفصل الدراسي
الأول

نموذج 2

امتحان نهائي

الصف
الخامس

المادة
الدراسات
الاجتماعية



السؤال الرابع

إذا كانت الساعة 6 صباحاً في مدينة جرينتش، فكم الساعة في مدينة مسقط الواقعة على خط 60 شرق جرينتش؟

- المعطيات: موقع مسقط: 60° شرق خط غرينتش، التوقيت في غرينتش: 6 صباحاً، الفرق الزمني لكل درجة: 4 دقائق
- خطوات الحل: $60 \times 4 = 240$ دقيقة $\leftarrow 240 \div 60 = 4$ ساعات $\leftarrow 4 + 6 = 10$ صباحاً بتوقيت مسقط.

السؤال الخامس

أجب عن الأسئلة التالية :

- 1- ما الفرق بين خطوط الطول ودوائر العرض من حيث الخصائص؟
الإجابة: خطوط الطول أنصاف دوائر متساوية الطول تلتقي عند القطبين، عددها 360 خطاً بينما دوائر العرض دوائر كاملة متوازية وغير متساوية الطول، عددها 180 دائرة.
- 2- كيف تحسب الفرق الزمني بين مدينتين باستخدام خطوط الطول؟
الإجابة: نضرب الفرق في خطوط الطول $\times 4$ دقائق، ثم نحول الناتج إلى ساعات ودقائق.
- 3- ما أهمية خطوط الطول ودوائر العرض في حياتنا اليومية؟
الإجابة: تحديد المواقع، حساب التوقيت، فهم المناخ، الملاحة، أنظمة GPS.
- 4- ما دور الأسواق في الحياة الاقتصادية والثقافية قبل الإسلام؟
- كانت مراكزاً للتجارة وتبادل السلع.
- أسهمت في نشر الثقافة والأدب (مثل سوق عكاظ).
- كانت مكاناً للاجتماعات السياسية والتحكيم بين القبائل.
- 5- ما دور الأسرة في تعزيز الانتماء والولاء للوطن؟
- غرس قيم الانتماء في الأبناء.
- تشجيعهم على العمل التطوعي.
- تعليمهم تاريخ الوطن وإنجازاته.





الفصل الدراسي
الأول

نموذج 2

امتحان نهائي

الصف
الخامس

المادة
الدراسات
الاجتماعية



6- أذكر استخدامين للخرائط عند البابليين والمصريين؟

- البابليون: رسم خرائط لسهل العراق لتقدير ضريبة الأراضي الزراعية.

- المصريون: رسم خرائط للمناجم والطرق المؤدية إليها.

7- ما أهمية المشاركة في الأعمال التطوعية للوطن؟

- تساهم في تنمية المجتمع.

- تعزز روح التعاون.

- تحسن الخدمات العامة.

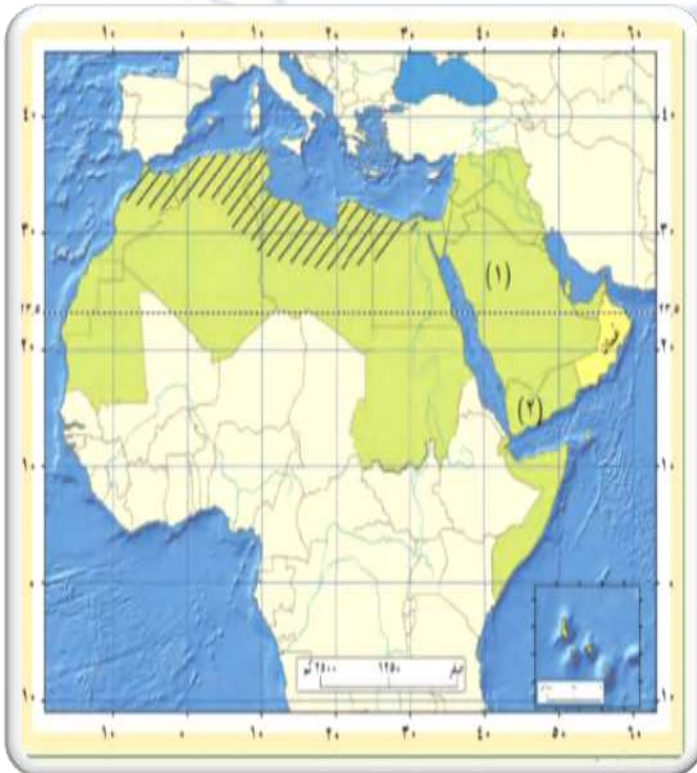
8- صف الحياة السياسية في عُمان قبل الإسلام:

- حكمها ملوك من الأزد مثل مالك بن فهم.

- اتسعت حدودها في بعض الفترات.

- كانت لها علاقات مع جيرانها.

السؤال السادس استخدم الخريطة لاستخراج المعطيات التالية:



1- اسم دولة عربية يمر عليها خط جرينتش.

الإجابة: الجزائر

2- اسم دولة عربية تمر عليها دائرة الاستواء.

الإجابة: الصومال

3- دول يمر عليها خط طول 30° شرقاً.

الإجابة: مصر، السودان

4- دول تمر عليها دائرة عرض 20° شمالاً.

الإجابة: سلطنة عمان، السعودية، السودان، الجزائر، موريتانيا

5- لماذا يتشابه التوقيت في الدولة 1 والدولة 2؟

الإجابة: لأن الدولتين تقعان على خط طول واحد.





الفصل الدراسي
الأول

نموذج 2

امتحان نهائي

الصف
الخامس

المادة
الدراسات
الاجتماعية



السؤال السابع

تأمل الصورة التي أمامك، ثم أجب عن الأسئلة التالية:



1- ما اسم الفن الذي توضحه الصورة؟

الإجابة: الرسومات الصخرية

2- ما أهميته؟

الإجابة: توثيق الحياة اليومية

السؤال الثامن

رتب الأحداث التالية ترتيباً صحيحاً:

- 1- طلب الفرس الصلح من مالك بن فهم.
- 2- انتصار الأزدي وطرد الفرس من عُمان بشكل كامل.
- 3- إرسال ملك الفرس مساعدة للفرس في صُحار.
- 4- انتصار الغمانيين على الفرس في معركة سلوت.

الإجابة: 4 ← 1 ← 3 ← 2

السؤال التاسع

أمامك مجموعة من المواقف اقترح التصرف الصحيح لكل موقف:

الموقف	التصرف الصحيح المقترح
إذا رأيت مجموعة تلوث حديقة عامة	أنصحهم بلطف، أشارك في تنظيفها، وأبلغ المسؤولين إذا لزم الأمر
إذا رأيت علم الوطن	الوقوف احتراماً، المحافظة على نظافته، وعدم المساس به بسوء
إذا زرت متحفاً وطنياً	الالتزام بالهدوء، عدم لمس المعروضات، التعلم من المعروضات، واحترام التعليمات

