



الفصل الدراسي
الأول

نموذج 2

الامتحان النهائي

الصف
السادس

المادة
الدراسات
الاجتماعية



السؤال الاول

ضع إشارة (✓) أمام العبارة الصحيحة وإشارة (✗) أمام العبارة الخاطئة:

- 1- (...) تعد محطة مسندم للطاقة أكبر المشروعات الاستثمارية في قطاع الطاقة بمحافظة مسندم.
- 2- (...) تسعى سلطنة عمان إلى زيادة المشاريع الاقتصادية في القطاع غير النفطي بهدف زيادة الاعتماد على القطاع النفطي.
- 3- (...) يوفر مجمع لوى لصناعات البوليمر المادة الخام للصناعات الزجاجية في سلطنة عمان.
- 4- (...) تهدف الخطة الخمسية العاشرة للحكومة العمانية إلى زيادة الاعتماد على القطاع النفطي.
- 5- (...) الصناعات التحويلية هي عملية تحويل المواد الخام الأولية إلى منتجات نهائية تخدم احتياجات المستهلك.
- 6- (...) يقيس الناتج المحلي الإجمالي قيمة السلع والخدمات في فترة زمنية معينة.
- 7- (...) تتميز سلطنة عمان بموقعها الجغرافي المحدود الذي يقلل من انفتاحها على العالم الخارجي.
- 8- (...) أسهم اتساع مساحة سلطنة عمان وموقعها الجغرافي في تنوع مواردها الطبيعية.
- 9- (...) تعتمد عُمان على مورد طبيعي واحد فقط في اقتصادها.
- 10- (...) تولى عمر بن الخطاب الخلافة بعد أبي بكر بالتعيين.
- 11- (...) أنشأ الخلفاء الراشدون الدواوين لتنظيم أمور الدولة.
- 12- (...) قام عبد بن الجُنْدَى بمواجهة الغساسنة المرتدين في الشام بعد أن كلفه الخليفة علي بن أبي طالب بذلك.
- 13- (...) كانت فترة حكم الخلفاء الراشدين 40 سنة.
- 14- (...) قام عثمان بن عفان بجمع القرآن الكريم.
- 15- (...) عبد بن الجُنْدَى كان من أبرز المشاركين في مواجهة المرتدين من قبيلة آل جفنة في الشام.
- 16- (...) عُرف عبد بن الجُنْدَى بكونه أحد الحكام في عهد الخليفة عمر بن الخطاب.
- 17- (...) اتجه وفد عماني برئاسة عبد بن الجُنْدَى وعمر بن العاص إلى المدينة المنورة لتهنئة أبي بكر بالخلافة فقط.
- 18- (...) الشاعر العماني عقبة بن النعمان العتكي كان من الذين ارتدوا عن الإسلام بعد وفاة الرسول صلى الله عليه وسلم.
- 19- (...) شارك عرفة البارقي في حروب الردة في عهد الخليفة أبي بكر الصديق.
- 20- (...) الرموز النوعية لا تحتاج إلى مفتاح للخريطة.
- 21- (...) الخريطة يمكن فهمها دون وجود رموز.
- 22- (...) عُيِّن صمصمة بن صوحان قاضياً على الكوفة.
- 23- (...) شارك عرفة البارقي في حروب الردة في عهد الخليفة أبي بكر الصديق.





الفصل الدراسي
الأول

نموذج 2

الامتحان النهائي

الصف
السادس

المادة
الدراسات
الاجتماعية



السؤال الثاني

املاً الفراغات بالكلمة المناسبة فيما يأتي:

- 1- من المشاريع الواعدة في القطاع النفطي: في ولاية بحاء.
- 2- يعد مشروع مصفاة الدقم أحد أكبر مشروعات في الشرق الأوسط.
- 3- يعمل مشروع استزراع على زيادة المخزون الطبيعي من هذا الكائن البحري.
- 4- تضم مدينة خزان الصناعية سوقاً
- 5- ركزت سلطنة عمان في خططها الاقتصادية على مشاريع للاستفادة من الموارد الطبيعية.
- 6- هي نظام يتيح للأفراد والشركات بيع وشراء وتسويق السلع والخدمات عبر الإنترنت.
- 7- من الأمثلة على الصناعات التحويلية
- 8- صدر قانون الثروة المعدنية بالمرسوم السلطاني 29/2019؛ وذلك ل.....
- 9- من الأنشطة الرئيسية لقطاع: إدارة نقل الموارد والبضائع المختلفة من مناطق الإنتاج إلى مناطق الاستهلاك.
- 10- الرموز الخطية تمثل الظواهر التي تظهر بخاصية مثل: وادي، طريق.
- 11- من أمثلة الرموز المساحية:
- 12- تتميز سلطنة عُمان بموقعها الذي يفتح على العالم الخارجي.
- 13- يعد مضيق من أهم المضائق المائية التي تطل عليها عُمان.
- 14- من الموارد الطبيعية في عُمان:
- 15- عاصمة الدولة في عصر الخلفاء الراشدين هي
- 16- عُرفت الفترة التي تلت وفاة الرسول صلى الله عليه وسلم بأنها فترة بسبب مقاومة العديد من القبائل للارتداد عن الإسلام.

السؤال الثالث

أذكر مشروعين من مشاريع القطاع النفطي التي نفذتها سلطنة عمان، مع ذكر أهمية كل مشروع؟

الاجابة





الفصل الدراسي
الأول

نموذج 2

الامتحان النهائي

الصف
السادس

المادة
الدراسات
الاجتماعية



السؤال الرابع

فسّر العبارات التالية:

1- كانت علاقة عمان بالخلافة الراشدة علاقة تعاون.

الاجابة

2- تعد محطة مصدم للطاقة من المشاريع الاستراتيجية.

الاجابة

3- اهتمام عُمان في خططها الاقتصادية بالصناعات التحويلية.

الاجابة

4- يعد القطاع غير النفطي محور اهتمام عُمان في الاقتصاد.

الاجابة

5- تتعدد الموارد الطبيعية في عُمان.

الاجابة

6- اهتمام عُمان بتنفيذ مشاريع اقتصادية واعادة في مختلف القطاعات.

الاجابة

7- يجب أن تشير الأسماء الجغرافية إلى رمز واحد فقط.

الاجابة

8- اشتهر العُمانيون بالملاحة البحرية.

الاجابة

9- كان عهد عمر بن الخطاب ذروة الفتوحات الإسلامية.

الاجابة

10- ثبت العُمانيون على الإسلام بعد وفاة الرسول ﷺ.

الاجابة





الفصل الدراسي
الأول

نموذج 2

الامتحان النهائي

الصف
السادس

المادة
الدراسات
الاجتماعية



السؤال الخامس: أجب عن السؤال التالي:

ما هو الهدف من سعي سلطنة عمان لزيادة المشاريع الاقتصادية في القطاع غير النفطي؟ أذكر مثالين على مشاريع القطاع غير النفطي التي ركزت عليها سلطنة عمان.

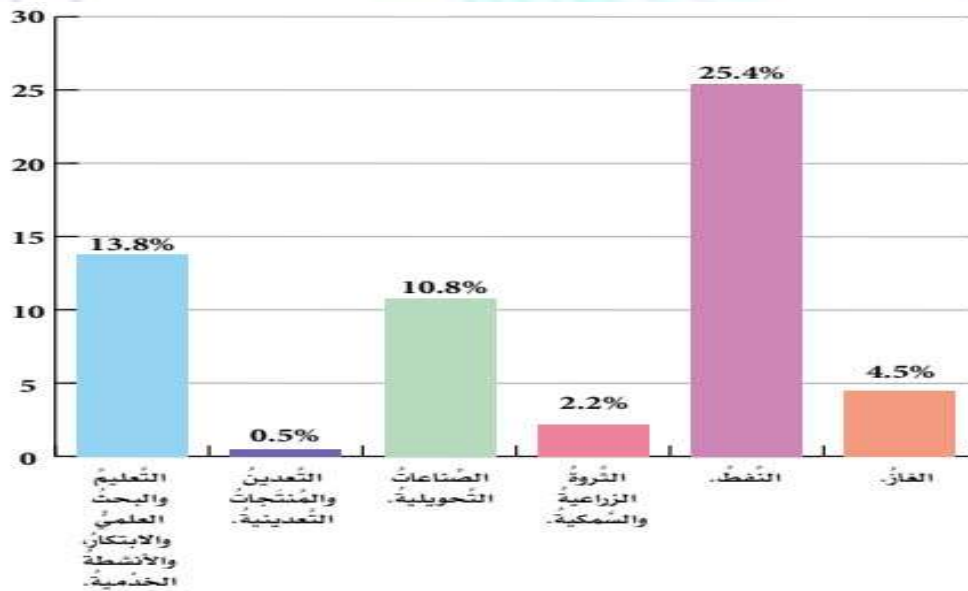
الإجابة:

السؤال السادس: صنف المشاريع الآتية إلى مشاريع قطاع نفطي وغير نفطي:

مشاريع القطاع النفطي	مشاريع القطاع غير النفطي

مشروع المليون نخلة
محطة مصدم للطاقة
مجمع لوى للصناعات البوليمر
مصفاة الدقم

السؤال السابع: أدرس الشكل التالي، ثم أجب عن الأسئلة الآتية:



(نسب مساهمة القطاعات النفطية وغير النفطية في الناتج المحلي الإجمالي لعام 2023)

1- ما القطاع الذي يساهم بأكبر نسبة في الناتج المحلي الإجمالي لعمان؟

الإجابة:





الفصل الدراسي
الأول

نموذج 2

الامتحان النهائي

الصف
السادس

المادة
الدراسات
الاجتماعية



2- رتب القطاعات التالية من الأكثر إلى الأقل مساهمة في الناتج المحلي؟

الإجابة:

3- ما مقدار مساهمة الثروة الزراعية في الناتج المحلي الإجمالي؟

الإجابة:

4- أي من هذه القطاعات غير النفطية يساهم بنسبة 10.8% في الناتج المحلي الإجمالي؟

الإجابة:

5- ما نسبة مساهمة قطاع النفط في الناتج المحلي الإجمالي؟

الإجابة:

السؤال الثامن أذكر كيف تم اختيار الخلفاء الراشدين الأربعة، مع ذكر طريقة اختيار كل خليفة؟

السؤال الثامن

- أبو بكر الصديق:

- عمر بن الخطاب:

- عثمان بن عفان:

- علي بن أبي طالب:

السؤال التاسع ما أهمية رموز الخريطة؟ (أذكر ثلاث نقاط)

السؤال التاسع

الإجابة:





الفصل الدراسي
الأول

نموذج 2

الامتحان النهائي

الصف
السادس

المادة
الدراسات
الاجتماعية



السؤال العاشر

أكتب الخطأ الذي وقع فيها رسام الخرائط في كتابة الأسماء الجغرافية على الرموز التي أمامك:



.....



.....



.....



.....





الفصل الدراسي
الأول

نموذج 2

الامتحان النهائي

الصف
السادس

المادة
الدراسات
الاجتماعية



السؤال الاول

ضع إشارة (✓) أمام العبارة الصحيحة وإشارة (x) أمام العبارة الخاطئة:

- 1- (✓) تعد محطة مسندم للطاقة أكبر المشروعات الاستثمارية في قطاع الطاقة بمحافظة مسندم.
- 2- (x) تسعى سلطنة عمان إلى زيادة المشاريع الاقتصادية في القطاع غير النفطي بهدف زيادة الاعتماد على القطاع النفطي.
- 3- (x) يوفر مجمع لوى لصناعات البوليمر المادة الخام للصناعات الزجاجية في سلطنة عمان.
- 4- (x) تهدف الخطة الخمسية العاشرة للحكومة العمانية إلى زيادة الاعتماد على القطاع النفطي.
- 5- (✓) الصناعات التحويلية هي عملية تحويل المواد الخام الأولية إلى منتجات نهائية تخدم احتياجات المستهلك.
- 6- (✓) يقيس الناتج المحلي الإجمالي قيمة السلع والخدمات في فترة زمنية معينة.
- 7- (x) تتميز سلطنة عمان بموقعها الجغرافي المحدود الذي يقلل من انفتاحها على العالم الخارجي.
- 8- (✓) أسهم اتساع مساحة سلطنة عمان وموقعها الجغرافي في تنوع مواردها الطبيعية.
- 9- (x) تعتمد عُمان على مورد طبيعي واحد فقط في اقتصادها.
- 10- (x) تولى عمر بن الخطاب الخلافة بعد أبي بكر بالتعيين.
- 11- (✓) أنشأ الخلفاء الراشدون الدواوين لتنظيم أمور الدولة.
- 12- (x) قام عبد بن الجُنْدَى بمواجهة الغساسنة المرتدين في الشام بعد أن كلفه الخليفة علي بن أبي طالب بذلك.
- 13- (x) كانت فترة حكم الخلفاء الراشدين 40 سنة.
- 14- (x) قام عثمان بن عفان بجمع القرآن الكريم
- 15- (✓) عبد بن الجُنْدَى كان من أبرز المشاركين في مواجهة المرتدين من قبيلة آل جفنة في الشام.
- 16- (x) عُرف عبد بن الجُنْدَى بكونه أحد الحكام في عهد الخليفة عمر بن الخطاب.
- 17- (x) اتجه وفد عماني برئاسة عبد بن الجُنْدَى وعمر بن العاص إلى المدينة المنورة لتهنئة أبي بكر بالخلافة فقط.
- 18- (x) الشاعر العماني عقبة بن النعمان العتكي كان من الذين ارتدوا عن الإسلام بعد وفاة الرسول صلى الله عليه وسلم.
- 19- (✓) شارك عرفة البارقي في حروب الردة في عهد الخليفة أبي بكر الصديق.
- 20- (x) الرموز النوعية لا تحتاج إلى مفتاح للخريطة.
- 21- (x) الخريطة يمكن فهمها دون وجود رموز.
- 22- (x) عَيْن صمصمة بن صوحان قاضياً على الكوفة.
- 23- (✓) شارك عرفة البارقي في حروب الردة في عهد الخليفة أبي بكر الصديق.





الفصل الدراسي
الأول

نموذج 2

الامتحان النهائي

الصف
السادس

المادة
الدراسات
الاجتماعية



السؤال الثاني

املاً الفراغات بالكلمة المناسبة فيما يأتي:

- 1- من المشاريع الواعدة في القطاع النفطي: **محطة مسندم للطاقة** في ولاية بحاء.
- 2- يعد مشروع مصفاة الدقم أحد أكبر مشروعات **تكرير النفط** في الشرق الأوسط.
- 3- يعمل مشروع استزراع **الصفيلج** على زيادة المخزون الطبيعي من هذا الكائن البحري.
- 4- تضم مدينة خزائن الصناعية سوقاً **للخضار والفواكه**.
- 5- ركزت سلطنة عمان في خططها الاقتصادية على مشاريع **الصناعات التحويلية** للاستفادة من الموارد الطبيعية.
- 6- **التجارة الإلكترونية** هي نظام يتيح للأفراد والشركات بيع وشراء وتسويق السلع والخدمات عبر الإنترنت.
- 7- من الأمثلة على الصناعات التحويلية الصناعات الزجاجية، والبلاستيكية، والدوائية، والغذائية.
- 8- صدر قانون الثروة المعدنية بالمرسوم السلطاني 29/2019؛ وذلك لحماية **الموارد المعدنية** وآلية الاستفادة منها اقتصادياً.
- 9- من الأنشطة الرئيسية لقطاع **الخدمات اللوجستية**: إدارة نقل الموارد والبضائع المختلفة من مناطق الإنتاج إلى مناطق الاستهلاك.
- 10- الرموز الخطية تمثل الظواهر التي تظهر بخاصية **الحركة والاستمرار** مثل: وادي، طريق.
- 11- من أمثلة الرموز المساحية: منطقة مزرعة، **سبخة، بحار ومحيطات**.
- 12- تتميز سلطنة عُمان بموقعها **الجغرافي الاستراتيجي** الذي يفتح على العالم الخارجي.
- 13- يعد مضيق **هرمز** من أهم المضائق المائية التي تطل عليها عُمان.
- 14- من الموارد الطبيعية في عُمان: **النفط والغاز الطبيعي والمعادن**.
- 15- عاصمة الدولة في عصر الخلفاء الراشدين هي **المدينة المنورة**.
- 16- عُرفت الفترة التي تلت وفاة الرسول صلى الله عليه وسلم بأنها فترة **حروب الردة** بسبب مقاومة العديد من القبائل للارتداد عن الإسلام.

السؤال الثالث

أذكر مشروعين من مشاريع القطاع النفطي التي نفذتها سلطنة عمان، مع ذكر أهمية كل مشروع؟

- **محطة مسندم للطاقة (في ولاية بحاء):** تعد أكبر المشروعات الاستثمارية في قطاع الطاقة بمحافظة مسندم، وتُعزز إمداد المشاريع الصناعية بالطاقة.
- **مشروع الدقم:** هو مشروع مشترك بين سلطنة عمان ودولة الكويت، ويُعد أحد أكبر مشروعات تكرير النفط في الشرق الأوسط، ويقع على خطوط الشحن البحري الدولي في المحيط الهندي.





الفصل الدراسي
الأول

نموذج 2

الامتحان النهائي

الصف
السادس

المادة
الدراسات
الاجتماعية



السؤال الرابع

فسّر العبارات التالية:

- 1- كانت علاقة عمان بالخلافة الراشدة علاقة تعاون.
الإجابة: حيث ساند العمانيون الخلافة وشاركوا في الفتوحات، بينما احترمت الخلافة نظام الحكم المحلي في عمان
- 2- تعد محطة مصدم للطاقة من المشاريع الاستراتيجية.
الإجابة: لأنها توفر الطاقة للمشاريع الصناعية وتسهم في تنمية القطاع الصناعي في المنطقة.
- 3- اهتمام عُمان في خططها الاقتصادية بالصناعات التحويلية.
الإجابة: لأنها تسهم في تنمية الاقتصاد وتوفير منتجات محلية تلبي احتياجات المستهلك.
- 4- يعد القطاع غير النفطي محور اهتمام عُمان في الاقتصاد.
الإجابة: لتقليل الاعتماد على النفط وتنويع مصادر الدخل.
- 5- تتعدد الموارد الطبيعية في عُمان.
الإجابة: بسبب اتساع مساحتها وموقعها الجغرافي المتميز وتنوع تضاريسها.
- 6- اهتمام عُمان بتنفيذ مشاريع اقتصادية وإعادة في مختلف القطاعات.
الإجابة: لتحقيق التنمية الاقتصادية المستدامة وتوفير فرص العمل.
- 7- يجب أن تشير الأسماء الجغرافية إلى رمز واحد فقط.
الإجابة: يعني أن كل اسم يجب أن يرتبط بظاهرة واحدة على الخريطة لتجنب الالتباس، فلا يكتب اسم واحد ليشمل عدة رموز متجاورة.
- 8- اشتهر العُمانيون بالملاحة البحرية.
الإجابة: بسبب خبرتهم الطويلة في صناعة السفن وارتياح البحار، مما جعلهم رواداً في هذا المجال
- 9- كان عهد عمر بن الخطاب ذروة الفتوحات الإسلامية.
الإجابة: لأن معظم الفتوحات الكبرى حدثت في عهده مثل فتح الشام ومصر.
- 10- ثبت العمانيون على الإسلام بعد وفاة الرسول ﷺ.
الإجابة: لم يتأثروا بموجة الردة التي انتشرت في بعض المناطق، وأظهروا تمسكهم بالإسلام.





الفصل الدراسي
الأول

نموذج 2

الامتحان النهائي

الصف
السادس

المادة
الدراسات
الاجتماعية



السؤال الخامس: أجب عن السؤال التالي:

ما هو الهدف من سعي سلطنة عمان لزيادة المشاريع الاقتصادية في القطاع غير النفطي؟ أذكر مثالين على مشاريع القطاع غير النفطي التي ركزت عليها سلطنة عمان.

الإجابة: الهدف من سعي سلطنة عمان لزيادة المشاريع الاقتصادية في القطاع غير النفطي هو التقليل من الاعتماد على القطاع النفطي. أمثلة على مشاريع القطاع غير النفطي التي ركزت عليها سلطنة عمان:

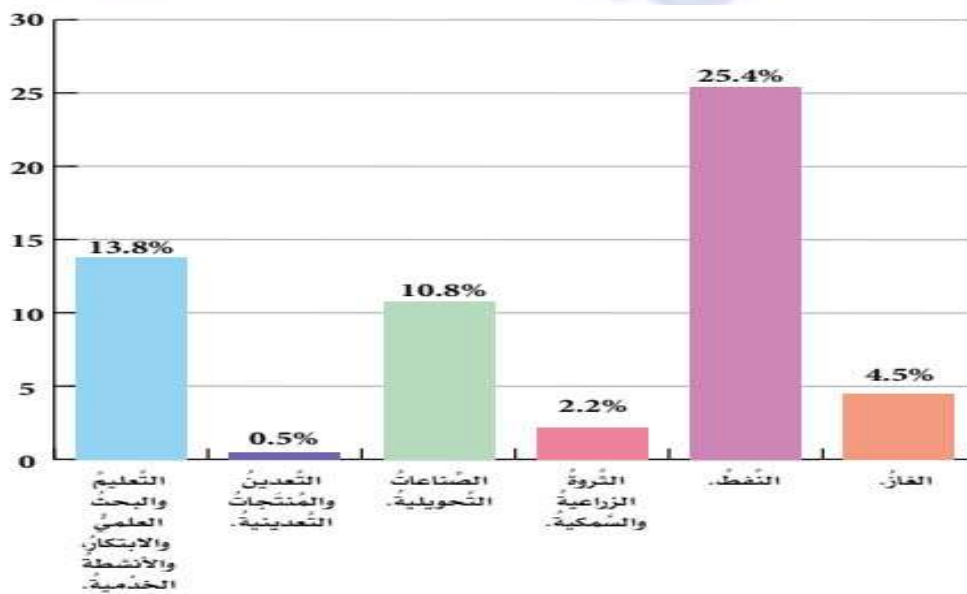
- مشاريع الصناعات التحويلية (مثل مجمع لوى للصناعات البوليمر).
- المشاريع اللوجستية (مثل مدينة خزائن الصناعية).
- مشاريع الأمن الغذائي (مثل مشروع المليون نخلة ومشروع استزراع الصفيلج).

السؤال السادس: صنف المشاريع الآتية إلى مشاريع قطاع نفطي وغير نفطي:

مشاريع القطاع النفطي	مشاريع القطاع غير النفطي
محطة مصدم للطاقة	مشروع المليون نخلة
مصفاة الدقم	مجمع لوى للصناعات البوليمر

مشروع المليون نخلة
محطة مصدم للطاقة
مجمع لوى للصناعات البوليمر
مصفاة الدقم

السؤال السابع: أدرس الشكل التالي، ثم أجب عن الأسئلة الآتية:



(نسب مساهمة القطاعات النفطية وغير النفطية في الناتج المحلي الإجمالي لعام 2023)





الفصل الدراسي
الأول

نموذج 2

الامتحان النهائي

الصف
السادس

المادة
الدراسات
الاجتماعية



1- ما القطاع الذي يساهم بأكبر نسبة في الناتج المحلي الإجمالي لعمان؟

الإجابة: النفط.

2- رتب القطاعات التالية من الأكثر إلى الأقل مساهمة في الناتج المحلي؟

الإجابة: النفط ← التعليم والبحث العلمي ← الصناعات التحويلية

3- ما مقدار مساهمة الثروة الزراعية في الناتج المحلي الإجمالي؟

الإجابة: 2.2%

4- أي من هذه القطاعات غير النفطية يساهم بنسبة 10.8% في الناتج المحلي الإجمالي؟

الإجابة: الصناعات التحويلية.

5- ما نسبة مساهمة قطاع النفط في الناتج المحلي الإجمالي؟

الإجابة: 25.4%

السؤال الثامن: أذكر كيف تم اختيار الخلفاء الراشدين الأربعة، مع ذكر طريقة اختيار كل خليفة؟

- أبو بكر الصديق: انتخاب مباشر.

- عمر بن الخطاب: التزكية.

- عثمان بن عفان: اختيار من بين عدد من المرشحين.

- علي بن أبي طالب:بيعة.

السؤال التاسع: ما أهمية رموز الخريطة؟ (أذكر ثلاث نقاط)

- تقلل التفاصيل في الخريطة.

- تسهل تمثيل الظواهر الجغرافية في الخرائط.

- تساعد في قراءة الخريطة وفهمها.



الفصل الدراسي
الأول

نموذج 2

الامتحان النهائي


الصف
السادس

المادة
الدراسات
الاجتماعية



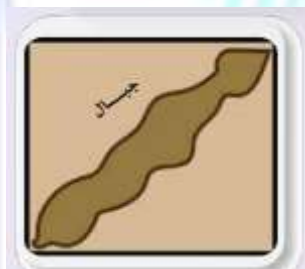
أكتب الخطأ الذي وقع فيها رسام الخرائط في كتابة الأسماء الجغرافية على الرموز التي أمامك:

السؤال العاشر



يكتب اسم الظاهر في الرمز النقطي في الأعلى أو على اليمين

تكتب أسماء المدن الساحلية على البحر



تكتب الأسماء على الظواهر المساحية في وضع يدل على امتدادها

تكتب الظواهر على الرموز الخطية أعلى الخط وعلى امتداده