



الترم الاول

نموذج 1

نهائي

الصف  
خامس

المادة  
دراسات  
اجتماعية



اختيار من متعدد

اولا

1. ما المصدر الرئيسي للمياه العذبة في مصر؟

- (أ) البحيرات الشمالية  
(ج) نهر النيل وفرعيه  
(ب) الأمطار الشتوية  
(د) المياه الجوفية المالحة

2. من المشروعات التي تقوم بها الدولة لمواجهة ندرة المياه العذبة:

- (أ) إنشاء محطات تحلية مياه البحر  
(ج) استيراد المياه من الخارج  
(ب) حفر الآبار الارتوازية فقط  
(د) الاعتماد على الأمطار فقط

3. أي مما يلي يُعد من المياه المالحة في مصر؟

- (أ) بحيرة ناصر  
(ج) نهر النيل  
(ب) البحر المتوسط  
(د) المياه الجوفية العذبة

4. ما المقصود بـ "تحلية مياه البحر"؟

- (أ) تخزين مياه البحر في خزانات  
(ج) نقل مياه البحر إلى الأراضي الزراعية  
(ب) معالجة مياه البحر لإزالة الأملاح وجعلها صالحة  
(د) تحويل مياه البحر إلى مياه جوفية

5. ما المشروع الذي يهدف إلى زيادة الإنتاج السمكي في مصر؟

- (أ) مشروع الدلتا الجديدة  
(ج) مشروع بنبان للطاقة الشمسية  
(ب) مشروع بركة غليون  
(د) مشروع العاصمة الإدارية

6. أين يقع مشروع الدلتا الجديدة؟

- (أ) شرق الدلتا  
(ج) جنوب سيناء  
(ب) غرب الدلتا  
(د) شمال الصحراء الشرقية

7. ما الهدف الرئيسي من مشروع الدلتا الجديدة؟

- (أ) توليد الكهرباء من الرياح  
(ج) تحلية مياه البحر  
(ب) تحقيق الأمن الغذائي وتقليل الاستيراد  
(د) إنشاء مدن ذكية





الترم الاول

نموذج 1

نهائي

الصف  
خامس

المادة  
دراسات  
اجتماعية



8. ما المشروع الذي يهدف إلى تخفيف الضغط السكاني عن القاهرة؟
- (أ) مشروع قناة السويس الجديدة  
(ب) العاصمة الإدارية الجديدة  
(ج) مشروع الزعفرانة  
(د) مشروع بحر البقر
9. ما أطول برج في إفريقيا يوجد في العاصمة الإدارية
- (أ) برج القاهرة  
(ب) البرج الإيفوني  
(ج) برج الجيزة  
(د) برج الإسكندرية
10. ما المشروع الذي يربط بين العلمين الجديدة والعين السخنة؟
- (أ) المونوريل  
(ب) القطار الكهربائي السريع  
(ج) الأنوبيس الترددي  
(د) محور روض الفرج
11. ما الهدف من حفر قناة السويس الجديدة؟
- (أ) زيادة المساحة الزراعية  
(ب) تقليل زمن عبور السفن وزيادة الدخل القومي  
(ج) توليد الكهرباء  
(د) تحلية المياه
12. من الذي فكر أولاً في ربط البحر المتوسط بالبحر الأحمر عبر قناة؟
- (أ) الملك سنوسرت الثالث  
(ب) الإسكندر الأكبر  
(ج) عمرو بن العاص  
(د) الملك مينا
13. أين يقع مشروع بنبان للطاقة الشمسية؟
- (أ) محافظة الجيزة  
(ب) محافظة أسوان  
(ج) محافظة البحر الأحمر  
(د) محافظة الإسكندرية
14. ما نوع الطاقة التي تعتمد عليها محطة جبل الزيت؟
- (أ) الطاقة الشمسية  
(ب) طاقة الرياح  
(ج) الطاقة الكهرومائية  
(د) الغاز الطبيعي





الترم الاول

نموذج 1

نهائي

الصف  
خامس

المادة  
دراسات  
اجتماعية



15. ما المبادرة التي أطلقها الرئيس السيسي لتحسين حياة الفئات الأكثر احتياجاً؟

- (أ) مبادرة 100 مليون شجرة  
(ب) مبادرة حياة كريمة  
(ج) مبادرة الطاقة المتجددة  
(د) مبادرة التحلية

16. ما الهدف من مبادرة "100 مليون شجرة"؟

- (أ) زيادة المساحات الزراعية  
(ب) مواجهة تغير المناخ  
(ج) توليد الكهرباء  
(د) تحلية المياه

17. ما المقصود بـ "التنمية المستدامة"؟

- (أ) استثمار الموارد دون النظر للمستقبل  
(ب) تلبية احتياجات الحاضر دون إضرار بحقوق الأجيال  
(ج) الاعتماد الكامل على الموارد غير المتجددة  
(د) زيادة الاستيراد من الخارج

18. ما الخطة التي وضعتها مصر لتحقيق التنمية الشاملة؟

- (أ) رؤية مصر 2020  
(ب) مشروع الدلتا  
(ج) مبادرة النيل  
(د) رؤية مصر 2030

19. أي من الموارد التالية يعتبر مصدراً للطاقة المتجددة؟

- (أ) الفحم  
(ب) البترول  
(ج) الطاقة الشمسية  
(د) الغاز الطبيعي

20. ما المعدن الذي يستخدم في صناعة الأسلاك الكهربائية؟

- (أ) النحاس  
(ب) الحديد  
(ج) الذهب  
(د) الفوسفات

21. من أين يستخرج خام الحديد في مصر؟

- (أ) منجم السكري  
(ب) سيناء  
(ج) البحر الأحمر  
(د) الواحات البحرية





الترم الاول

نموذج 1

نهائي

الصف  
خامس

المادة  
دراسات  
اجتماعية



22. أي معدن يستخدم في صناعة الأسمدة والمبيدات الحشرية؟

- (أ) الذهب  
(ج) الفوسفات  
(ب) النحاس  
(د) المنجنيز

23. أين يقع منجم السكري؟

- (أ) الصحراء الغربية  
(ج) سيناء  
(ب) الصحراء الشرقية  
(د) الواحات البحرية

24. ما المعدن الذي يدخل في صناعة الصلب والدهانات؟

- (أ) النحاس  
(ج) المنجنيز  
(ب) الذهب  
(د) الحديد

25. أين يوجد حقل "ظهر" للغاز الطبيعي؟

- (أ) خليج السويس  
(ج) الصحراء الغربية  
(ب) البحر المتوسط شمال بورسعيد  
(د) البحر الأحمر

26. ما المشروع الذي يولد الكهرباء من المساقط المائية؟

- (أ) محطة بنبان  
(ج) محطة السد العالي  
(ب) محطة جبل الزيت  
(د) محطة الزعفرانة

27. أي من المحطات تعتمد على طاقة الرياح؟

- (أ) محطة الكريمات  
(ج) محطة الزعفرانة  
(ب) محطة بنبان  
(د) محطة العين السخنة

28. ما المشروع الذي يعالج مياه الصرف الزراعي لإعادة استخدامها؟

- (أ) محطة العين السخنة  
(ج) محطة بنبان  
(ب) محطة بحر البقر  
(د) محطة جبل الزيت







الترم الاول

نموذج 1

نهائي

الصف  
خامس

المادة  
دراسات  
اجتماعية



29. ما الذي يهدد المياه في مصر بسبب التغيرات المناخية؟

- (أ) زيادة الأمطار  
(ب) انخفاض درجة الحرارة  
(ج) موجات الجفاف والفيضانات  
(د) زيادة المساحات الخضراء
30. ما الذي يساعدنا في تحديد المواقع شرقاً وغرباً؟

- (أ) دوائر العرض  
(ب) خطوط الطول  
(ج) خط الاستواء  
(د) مدار السرطان
31. كم يبلغ الفرق الزمني بين كل خط طول والخط الذي يليه؟

- (أ) ساعة واحدة  
(ب) 4 دقائق  
(ج) 10 دقائق  
(د) 30 دقيقة

32. أي دائرة عرض تقسم الكرة الأرضية إلى نصفين متساويين؟

- (أ) مدار السرطان  
(ب) مدار الجدي  
(ج) دائرة الاستواء  
(د) الدائرة القطبية الشمالية

33. ما اسم خط الطول الرئيسي؟


- (أ) خط الاستواء  
(ب) خط جرينتش  
(ج) مدار السرطان  
(د) مدار الجدي

34. ما الموقع الفلكي لمصر؟

- (أ) بين دائرتي عرض 22 و 31 شمالاً، وخطي طول 25 و 37 شرقاً  
(ب) بين دائرتي عرض 10 و 20 جنوباً  
(ج) على خط الاستواء  
(د) غرب خط جرينتش

35. ما الذي يميز منخفض الفيوم؟

- (أ) أنه يقع في الصحراء الشرقية  
(ب) أنه بيئة زراعية رغم وقوعه في الصحراء الغربية  
(ج) أنه أعلى منطقة في مصر  
(د) أنه يخلو من المياه





الترم الاول

نموذج 1

نهائي

الصف  
خامس

المادة  
دراسات  
اجتماعية



36. أي من هذه المنخفضات في الصحراء الغربية مأهول بالسكان؟

- (أ) منخفض القطارة  
(ب) منخفض الفرافرة  
(ج) منخفض سيوة  
(د) كل ما سبق

37. ما العامل الذي ساهم في تشكيل جبال البحر الأحمر؟

- (أ) التعرية المائية  
(ب) التعرية الهوائية  
(ج) الحركات الانكسارية  
(د) الأمطار

38. ما الفرق بين الطقس والمناخ؟

- (أ) الطقس لفترة طويلة والمناخ لفترة قصيرة  
(ب) الطقس لفترة قصيرة والمناخ لفترة طويلة  
(ج) لا فرق بينهما  
(د) الطقس خاص بالمطر فقط

39. ما العامل الذي يجعل المدن الساحلية معتدلة الحرارة؟

- (أ) القرب من المسطحات المائية  
(ب) البعد عن المسطحات المائية  
(ج) الارتفاع عن سطح البحر  
(د) كثافة الغطاء النباتي

40. متى يبدأ فصل الصيف في مصر؟


- (أ) عندما تتعامد الشمس على مدار الجدي  
(ب) عندما تتعامد الشمس على دائرة الاستواء  
(ج) عندما تتعامد الشمس على مدار السرطان  
(د) عندما تتعامد الشمس على خط جرينتش

41. ما الرياح التي تهب في الربيع وتحمل الرمال والأتربة؟

- (أ) رياح الخماسين  
(ب) رياح التجارة  
(ج) رياح الموسم  
(د) رياح البحر

42. أي إقليم مناخي يتميز بالحرارة الشديدة صيفاً ونُدرة الأمطار؟

- (أ) إقليم البحر المتوسط  
(ب) الإقليم الصحراوي الحار  
(ج) الإقليم الاستوائي  
(د) الإقليم المعتدل





الترم الاول

نموذج 1

نهائي

الصف  
خامس

المادة  
دراسات  
اجتماعية



43. ما النبات الطبيعي الذي ينمو في المستنقعات وعلى ضفاف النيل؟

- (أ) الصبار  
(ب) التين الشوكي  
(ج) البردي  
(د) المانجروف

44. ما النبات الذي ينمو في المناطق الساحلية ويتحمل الملوحة؟

- (أ) الصبار  
(ب) المانجروف  
(ج) البردي  
(د) النخيل

45. ما الذي يؤدي إلى انقراض النباتات الطبيعية والحيوانات البرية؟

- (أ) الصيد الجائر  
(ب) الرعي الجائر  
(ج) التوسع العمراني  
(د) جميع ما سبق

46. ما المقصود بالتنوع البيولوجي؟

- (أ) تنوع الصخور والمعادن  
(ب) تنوع التضاريس  
(ج) تنوع الحياة النباتية والحيوانية  
(د) تنوع المناخ

47. ما العامل الطبيعي الذي ساعد على بقاء الآثار المصرية؟


- (أ) المناخ المعتدل  
(ب) المناخ الجاف  
(ج) الرطوبة العالية  
(د) الفيضانات

48. من الذي وصف مصر بأنها "هبة النيل"؟

- (أ) هيرودوت  
(ب) مانيتون  
(ج) جمال حمدان  
(د) أرسطو

49. ما العامل البشري الذي ساعد على قيام الحضارة المصرية؟

- (أ) المناخ المعتدل  
(ب) نهر النيل  
(ج) الحكومة المركزية  
(د) الحدود الطبيعية





الترم الاول

نموذج 1

نهائي

الصف  
خامس

المادة  
دراسات  
اجتماعية



50. في أي عصر عاش المصري القديم في الكهوف واعتمد على الصيد؟

- (أ) العصر الحجري الحديث  
(ب) العصر الحجري القديم  
(ج) عصر المعادن  
(د) عصر ما قبل الأسرات

51. ماذا اكتشف الإنسان في العصر الحجري القديم؟

- (أ) الزراعة  
(ب) النار  
(ج) المعادن  
(د) الكتابة

52. في أي عصر نزل المصري القديم إلى وادي النيل وعرف الزراعة؟

- (أ) العصر الحجري القديم  
(ب) العصر الحجري الحديث  
(ج) عصر المعادن  
(د) عصر الأسرات

53. ما شعار مملكة الشمال؟

- (أ) زهرة اللوتس  
(ب) نبات البردي  
(ج) الصقر  
(د) الثعبان

54. من هو الملك الموحد لمصر الوحدة الثانية ؟

- (أ) خوفو  
(ب) مينا (نعرمر)  
(ج) سنوسرت  
(د) أحمس

55. ما اسم العاصمة التي بناها الملك مينا؟

- (أ) من - نفر  
(ب) طيبة  
(ج) الإسكندرية  
(د) أون

56. أي عصر يُعرف بعصر بناء الأهرام؟

- (أ) العصر العتيق  
(ب) الدولة القديمة  
(ج) الدولة الوسطى  
(د) الدولة الحديثة







الترم الاول

نموذج 1

نهائي

الصف  
خامس

المادة  
دراسات  
اجتماعية



57. من هو صاحب الهرم الأكبر؟

- (أ) زوسر  
(ب) خوفو  
(ج) خفرع  
(د) منكاورع

58. ما الاسم الآخر لعصر الدولة الوسطى؟

- (أ) عصر الرخاء الاقتصادي  
(ب) عصر المجد الحربي  
(ج) عصر بناء الأهرام  
(د) عصر الهكسوس

59. من هم الذين غزوا مصر في نهاية الدولة الوسطى؟

- (أ) الفرس  
(ب) الرومان  
(ج) الهكسوس  
(د) الإغريق

60. من الذي طرد الهكسوس من مصر؟

- (أ) أحمس  
(ب) تحتمس الثالث  
(ج) رمسيس الثاني  
(د) خفرع

61. ما المعركة التي انتصر فيها تحتمس الثالث في فلسطين؟

- (أ) معركة قادش  
(ب) معركة مجدو  
(ج) معركة أكتيوم  
(د) معركة طيبة

62. من الذي عقد أول معاهدة سلام موثقة في التاريخ؟

- (أ) تحتمس الثالث  
(ب) رمسيس الثاني  
(ج) أحمس  
(د) الإسكندر الأكبر

63. لماذا رحب المصريون بالإسكندر الأكبر؟

- (أ) لأنه بنى مكتبة الإسكندرية  
(ب) لأنه حررهم من حكم الفرس  
(ج) لأنه وحد مصر  
(د) لأنه أدخل المسيحية





الترم الاول

نموذج 1

نهائي

الصف  
خامس

المادة  
دراسات  
اجتماعية



64. ما المدينة التي أسسها الإسكندر الأكبر لتكون عاصمة جديدة لمصر؟

(أ) القاهرة

(ب) منف

(ج) الإسكندرية

(د) طيبة

65. من آخر ملوك البطالمة في مصر؟


(أ) بطليموس الأول

(ب) كليوباترا السابعة

(ج) بطليموس الثاني

(د) الإسكندر الأكبر

بسم الله الرحمن الرحيم  
نلهمك لتبدع...





الترم الاول

نموذج 1

نهائي

الصف  
خامس

المادة  
دراسات  
اجتماعية



اولا

اختيار من متعدد

1. ما المصدر الرئيسي للمياه العذبة في مصر؟  
(أ) البحيرات الشمالية  
(ب) الأمطار الشتوية  
(ج) **نهر النيل وفرعيه**  
(د) المياه الجوفية المالحة
2. من المشروعات التي تقوم بها الدولة لمواجهة ندرة المياه العذبة:  
(أ) **إنشاء محطات تحلية مياه البحر**  
(ب) حفر الآبار الارتوازية فقط  
(ج) استيراد المياه من الخارج  
(د) الاعتماد على الأمطار فقط
3. أي مما يلي يُعد من المياه المالحة في مصر؟  
(أ) بحيرة ناصر  
(ب) **البحر المتوسط**  
(ج) نهر النيل  
(د) المياه الجوفية العذبة
4. ما المقصود بـ "تحلية مياه البحر"؟  
(أ) تخزين مياه البحر في خزانات  
(ب) **معالجة مياه البحر لإزالة الأملاح وجعلها صالحة**  
(ج) نقل مياه البحر إلى الأراضي الزراعية  
(د) تحويل مياه البحر إلى مياه جوفية
5. ما المشروع الذي يهدف إلى زيادة الإنتاج السمكي في مصر؟  
(أ) مشروع الدلتا الجديدة  
(ب) **مشروع بركة غليون**  
(ج) مشروع بنبان للطاقة الشمسية  
(د) مشروع العاصمة الإدارية
6. أين يقع مشروع الدلتا الجديدة؟  
(أ) شرق الدلتا  
(ب) **غرب الدلتا**  
(ج) جنوب سيناء  
(د) شمال الصحراء الشرقية
7. ما الهدف الرئيسي من مشروع الدلتا الجديدة؟  
(أ) توليد الكهرباء من الرياح  
(ب) **تحقيق الأمن الغذائي وتقليل الاستيراد**  
(ج) تحلية مياه البحر  
(د) إنشاء مدن ذكية





الترم الاول

نموذج 1

نهائي

الصف  
خامس

المادة  
دراسات  
اجتماعية



8. ما المشروع الذي يهدف إلى تخفيف الضغط السكاني عن القاهرة؟

(أ) مشروع قناة السويس الجديدة

(ب) العاصمة الإدارية الجديدة

(ج) مشروع الزعفرانة

(د) مشروع بحر البقر

9. ما أطول برج في إفريقيا يوجد في العاصمة الإدارية

(أ) برج القاهرة

(ب) البرج الإيفوني

(ج) برج الجيزة

(د) برج الإسكندرية

10. ما المشروع الذي يربط بين العلمين الجديدة والعين السخنة؟

(أ) المونوريل

(ب) القطار الكهربائي السريع

(ج) الأنوبيس الترددي

(د) محور روض الفرج

11. ما الهدف من حفر قناة السويس الجديدة؟

(أ) زيادة المساحة الزراعية

(ب) تقليل زمن عبور السفن وزيادة الدخل القومي

(ج) توليد الكهرباء

(د) تحلية المياه

12. من الذي فكر أولاً في ربط البحر المتوسط بالبحر الأحمر عبر قناة؟

(أ) الملك سنوسرت الثالث

(ب) الإسكندر الأكبر

(ج) عمرو بن العاص

(د) الملك مينا

13. أين يقع مشروع بنبان للطاقة الشمسية؟

(أ) محافظة الجيزة

(ب) محافظة أسوان

(ج) محافظة البحر الأحمر

(د) محافظة الإسكندرية


14. ما نوع الطاقة التي تعتمد عليها محطة جبل الزيت؟

(أ) الطاقة الشمسية

(ب) طاقة الرياح

(ج) الطاقة الكهرومائية

(د) الغاز الطبيعي





الترم الاول

نموذج 1

نهائي

الصف  
خامس

المادة  
دراسات  
اجتماعية



15. ما المبادرة التي أطلقها الرئيس السيسي لتحسين حياة الفئات الأكثر احتياجاً؟

- (أ) مبادرة 100 مليون شجرة  
(ج) مبادرة الطاقة المتجددة  
(ب) مبادرة حياة كريمة  
(د) مبادرة التحلية

16. ما الهدف من مبادرة "100 مليون شجرة"؟

- (أ) زيادة المساحات الزراعية  
(ج) توليد الكهرباء  
(ب) مواجهة تغير المناخ  
(د) تحلية المياه

17. ما المقصود بـ "التنمية المستدامة"؟

- (أ) استثمار الموارد دون النظر للمستقبل  
(ج) الاعتماد الكامل على الموارد غير المتجددة  
(ب) تلبية احتياجات الحاضر دون إضرار بحقوق الأجيال  
(د) زيادة الاستيراد من الخارج

18. ما الخطة التي وضعتها مصر لتحقيق التنمية الشاملة؟

- (أ) رؤية مصر 2020  
(ج) مبادرة النيل  
(ب) مشروع الدلتا  
(د) رؤية مصر 2030

19. أي من الموارد التالية يعتبر مصدراً للطاقة المتجددة؟

- (أ) الفحم  
(ج) الطاقة الشمسية  
(ب) البترول  
(د) الغاز الطبيعي

20. ما المعدن الذي يستخدم في صناعة الأسلاك الكهربائية؟

- (أ) النحاس  
(ج) الذهب  
(ب) الحديد  
(د) الفوسفات

21. من أين يستخرج خام الحديد في مصر؟

- (أ) منجم السكري  
(ج) البحر الأحمر  
(ب) سيناء  
(د) الواحات البحرية







الترم الاول

نموذج 1

نهائي

الصف  
خامس

المادة  
دراسات  
اجتماعية



22. أي معدن يستخدم في صناعة الأسمدة والمبيدات الحشرية؟

(أ) الذهب

(ب) النحاس

(ج) الفوسفات

(د) المنجنيز

23. أين يقع منجم السكري؟

(أ) الصحراء الغربية

(ب) الصحراء الشرقية

(ج) سيناء

(د) الواحات البحرية

24. ما المعدن الذي يدخل في صناعة الصلب والدهانات؟

(أ) النحاس

(ب) الذهب

(ج) المنجنيز

(د) الحديد

25. أين يوجد حقل "ظهر" للغاز الطبيعي؟

(أ) خليج السويس

(ب) البحر المتوسط شمال بورسعيد

(ج) الصحراء الغربية

(د) البحر الأحمر

26. ما المشروع الذي يولد الكهرباء من المساقط المائية؟

(أ) محطة بنبان

(ب) محطة جبل الزيت

(ج) محطة السد العالي

(د) محطة الزعفرانة

27. أي من المحطات تعتمد على طاقة الرياح؟

(أ) محطة الكريمات

(ب) محطة بنبان

(ج) محطة الزعفرانة

(د) محطة العين السخنة

28. ما المشروع الذي يعالج مياه الصرف الزراعي لإعادة استخدامها؟

(أ) محطة العين السخنة

(ب) محطة بحر البقر

(ج) محطة بنبان

(د) محطة جبل الزيت



الترم الاول

نموذج 1

نهائي

الصف  
خامس

المادة  
دراسات  
اجتماعية



29. ما الذي يهدد المياه في مصر بسبب التغيرات المناخية؟

- (أ) زيادة الأمطار  
(ب) انخفاض درجة الحرارة  
(ج) موجات الجفاف والفيضانات  
(د) زيادة المساحات الخضراء

30. ما الذي يساعدنا في تحديد المواقع شرقاً وغرباً؟

- (أ) دوائر العرض  
(ب) خطوط الطول  
(ج) خط الاستواء  
(د) مدار السرطان

31. كم يبلغ الفرق الزمني بين كل خط طول والخط الذي يليه؟

- (أ) ساعة واحدة  
(ب) 4 دقائق  
(ج) 10 دقائق  
(د) 30 دقيقة

32. أي دائرة عرض تقسم الكرة الأرضية إلى نصفين متساويين؟

- (أ) مدار السرطان  
(ب) مدار الجدي  
(ج) دائرة الاستواء  
(د) الدائرة القطبية الشمالية

33. ما اسم خط الطول الرئيسي؟

- (أ) خط الاستواء  
(ب) خط جرينتش  
(ج) مدار السرطان  
(د) مدار الجدي

34. ما الموقع الفلكي لمصر؟

- (أ) بين دائرتي عرض 22 و 31 شمالاً، وخطي طول 25 و 37 شرقاً  
(ب) بين دائرتي عرض 10 و 20 جنوباً

- (ج) على خط الاستواء  
(د) غرب خط جرينتش

35. ما الذي يميز منخفض الفيوم؟

- (أ) أنه يقع في الصحراء الشرقية  
(ب) أنه بيئة زراعية رغم وقوعه في الصحراء الغربية  
(ج) أنه أعلى منطقة في مصر  
(د) أنه يخلو من المياه





الترم الاول

نموذج 1

نهائي

الصف  
خامس

المادة  
دراسات  
اجتماعية



36. أي من هذه المنخفضات في الصحراء الغربية مأهول بالسكان؟

- (أ) منخفض القطارة  
(ج) منخفض سيوة  
(ب) منخفض الفرافرة  
(د) كل ما سبق

37. ما العامل الذي ساهم في تشكيل جبال البحر الأحمر؟

- (أ) التعرية المائية  
(ج) الحركات الانكسارية  
(ب) التعرية الهوائية  
(د) الأمطار

38. ما الفرق بين الطقس والمناخ؟

- (أ) الطقس لفترة طويلة والمناخ لفترة قصيرة  
(ج) لا فرق بينهما  
(ب) الطقس لفترة قصيرة والمناخ لفترة طويلة  
(د) الطقس خاص بالمطر فقط

39. ما العامل الذي يجعل المدن الساحلية معتدلة الحرارة؟

- (أ) القرب من المسطحات المائية  
(ج) الارتفاع عن سطح البحر  
(ب) البعد عن المسطحات المائية  
(د) كثافة الغطاء النباتي

40. متى يبدأ فصل الصيف في مصر؟

- (أ) عندما تتعامد الشمس على مدار الجدي  
(ج) عندما تتعامد الشمس على مدار السرطان  
(ب) عندما تتعامد الشمس على دائرة الاستواء  
(د) عندما تتعامد الشمس على خط جرينتش

41. ما الرياح التي تهب في الربيع وتحمل الرمال والأتربة؟

- (أ) رياح الخماسين  
(ج) رياح الموسم  
(ب) رياح التجارة  
(د) رياح البحر

42. أي إقليم مناخي يتميز بالحرارة الشديدة صيفاً ونُدرة الأمطار؟

- (أ) إقليم البحر المتوسط  
(ج) الإقليم الاستوائي  
(ب) الإقليم الصحراوي الحار  
(د) الإقليم المعتدل





الترم الاول

نموذج 1

نهائي

الصف  
خامس

المادة  
دراسات  
اجتماعية



43. ما النبات الطبيعي الذي ينمو في المستنقعات وعلى ضفاف النيل؟

- (أ) الصبار  
(ب) التين الشوكي  
(ج) البردي  
(د) المانجروف

44. ما النبات الذي ينمو في المناطق الساحلية ويتحمل الملوحة؟

- (أ) الصبار  
(ب) المانجروف  
(ج) البردي  
(د) النخيل

45. ما الذي يؤدي إلى انقراض النباتات الطبيعية والحيوانات البرية؟

- (أ) الصيد الجائر  
(ب) الرعي الجائر  
(ج) التوسع العمراني  
(د) جميع ما سبق

46. ما المقصود بالتنوع البيولوجي؟

- (أ) تنوع الصخور والمعادن  
(ب) تنوع التضاريس  
(ج) تنوع الحياة النباتية والحيوانية  
(د) تنوع المناخ

47. ما العامل الطبيعي الذي ساعد على بقاء الآثار المصرية؟


- (أ) المناخ المعتدل  
(ب) المناخ الجاف  
(ج) الرطوبة العالية  
(د) الفيضانات

48. من الذي وصف مصر بأنها "هبة النيل"؟

- (أ) هيرودوت  
(ب) مانيتون  
(ج) جمال حمدان  
(د) أرسطو

49. ما العامل البشري الذي ساعد على قيام الحضارة المصرية؟

- (أ) المناخ المعتدل  
(ب) نهر النيل  
(ج) الحكومة المركزية  
(د) الحدود الطبيعية





الترم الاول

نموذج 1

نهائي

الصف  
خامس

المادة  
دراسات  
اجتماعية



50. في أي عصر عاش المصري القديم في الكهوف واعتمد على الصيد؟

- (أ) العصر الحجري الحديث  
(ج) عصر المعادن  
(ب) العصر الحجري القديم  
(د) عصر ما قبل الأسرات

51. ماذا اكتشف الإنسان في العصر الحجري القديم؟

- (أ) الزراعة  
(ج) المعادن  
(ب) النار  
(د) الكتابة

52. في أي عصر نزل المصري القديم إلى وادي النيل وعرف الزراعة؟

- (أ) العصر الحجري القديم  
(ج) عصر المعادن  
(ب) العصر الحجري الحديث  
(د) عصر الأسرات

53. ما شعار مملكة الشمال؟

- (أ) زهرة اللوتس  
(ج) الصقر  
(ب) نبات البردي  
(د) الثعبان

54. من هو الملك الموحد لمصر الوحدة الثانية ؟

- (أ) خوفو  
(ج) سنوسرت  
(ب) مينا (نعرمر)  
(د) أحمس

55. ما اسم العاصمة التي بناها الملك مينا؟

- (أ) من - نفر  
(ج) الإسكندرية  
(ب) طيبة  
(د) أون

56. أي عصر يُعرف بعصر بناء الأهرام؟

- (أ) العصر العتيق  
(ج) الدولة الوسطى  
(ب) الدولة القديمة  
(د) الدولة الحديثة







الترم الاول

نموذج 1

نهائي

الصف  
خامس

المادة  
دراسات  
اجتماعية



57. من هو صاحب الهرم الأكبر؟

(ب) خوفو

(أ) زوسر

(د) منكاورع

(ج) خفرع

58. ما الاسم الآخر لعصر الدولة الوسطى؟

(ب) عصر المجد الحربي

(أ) عصر الرخاء الاقتصادي

(د) عصر الهكسوس

(ج) عصر بناء الأهرام

59. من هم الذين غزوا مصر في نهاية الدولة الوسطى؟

(ب) الرومان

(أ) الفرس

(د) الإغريق

(ج) الهكسوس

60. من الذي طرد الهكسوس من مصر؟

(ب) تحتمس الثالث

(أ) أحمس

(د) خفرع

(ج) رمسيس الثاني

61. ما المعركة التي انتصر فيها تحتمس الثالث في فلسطين؟

(ب) معركة مجدو

(أ) معركة قادش

(د) معركة طيبة

(ج) معركة أكتيوم

62. من الذي عقد أول معاهدة سلام موثقة في التاريخ؟

(ب) رمسيس الثاني

(أ) تحتمس الثالث

(د) الإسكندر الأكبر

(ج) أحمس

63. لماذا رحب المصريون بالإسكندر الأكبر؟

(ب) لأنه حررهم من حكم الفرس

(أ) لأنه بنى مكتبة الإسكندرية

(د) لأنه أدخل المسيحية

(ج) لأنه وحد مصر





الترم الاول

نموذج 1

نهائي

الصف  
خامس

المادة  
دراسات  
اجتماعية



64. ما المدينة التي أسسها الإسكندر الأكبر لتكون عاصمة جديدة لمصر؟

(أ) القاهرة

(ب) منف

(ج) الإسكندرية

(د) طيبة

65. من آخر ملوك البطالمة في مصر؟

(أ) بطليموس الأول

(ب) كليوباترا السابعة

(ج) بطليموس الثاني

(د) الإسكندر الأكبر

بسم الله الرحمن الرحيم  
نلهمك لتبدع...

