

أوراق عمل رياضيات لمرحلة رياض الاطفال (مجانية)



تنمية مهارات الحساب



صل بين كل صورة والعدد الصحيح الذي يمثلها



3

2

1







4



تنمية مهارات الحساب



كم عدد كل من ؟؟



تنمية مهارات الحساب



كم عدد كل من ??

